



1. 次の数を正の符号、負の符号を使って表しなさい。

① 0より $\frac{8}{9}$ 小さい数

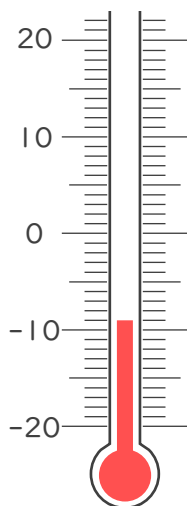
② 0より2.3小さい数

③ 0より14小さい数

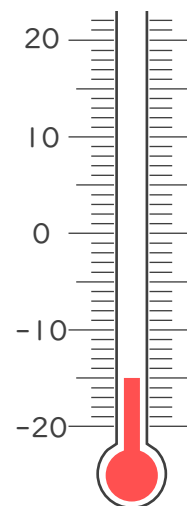
④ 0より5.5大きい数

2. 次の温度計が示す温度を書きなさい。

①



②







1. 次の数を正の符号、負の符号を使って表しなさい。

① 0 より $\frac{8}{9}$ 小さい数

$-\frac{8}{9}$

② 0 より 2.3 小さい数

-2.3

③ 0 より 14 小さい数

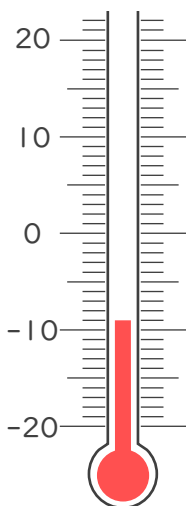
-14

④ 0 より 5.5 大きい数

$+5.5$

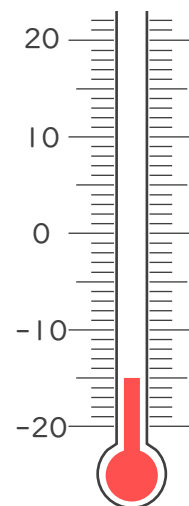
2. 次の温度計が示す温度を書きなさい。

①



-9°C

②



-15°C

