



1. 次の温度を－^{マイナス}を使って表しなさい。

① 0℃より1.9℃低い温度

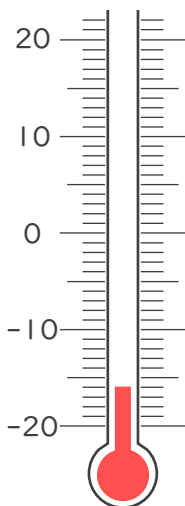
② 0℃より6℃低い温度

③ 0℃より4.3℃低い温度

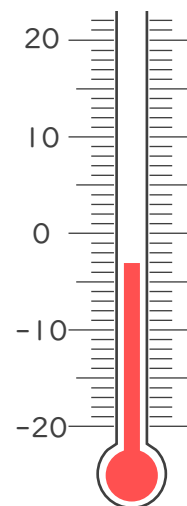
④ 0℃より15℃低い温度

2. 次の温度計が示す温度を書きなさい。

①



②







1. 次の温度を－^{マイナス}を使って表しなさい。

① 0℃より1.9℃低い温度

－1.9℃

② 0℃より6℃低い温度

－6℃

③ 0℃より4.3℃低い温度

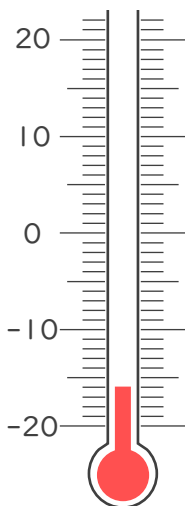
－4.3℃

④ 0℃より15℃低い温度

－15℃

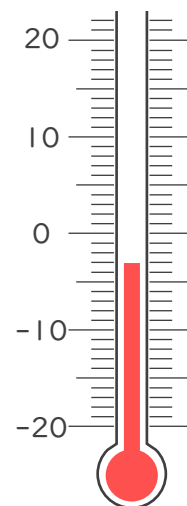
2. 次の温度計が示す温度を書きなさい。

①



－16℃

②



－3℃

