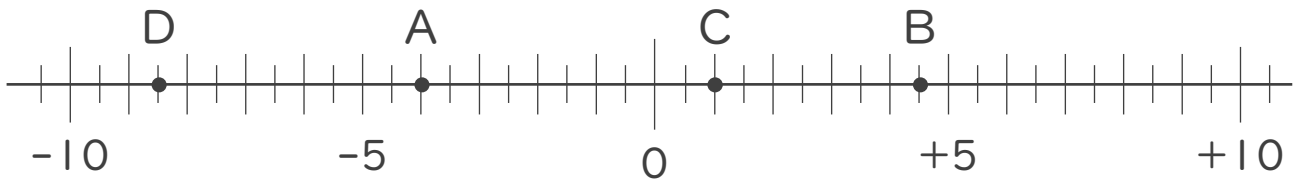




1. 次の数直線で、点A,B,C,Dに対応する数を答えなさい。



A :

\_\_\_\_\_

B :

\_\_\_\_\_

C :

\_\_\_\_\_

D :

\_\_\_\_\_

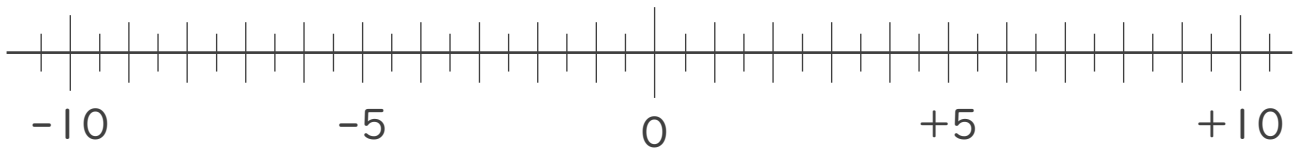
2. 次の数を数直線上に表しなさい。

①  $+9.5$

②  $+\frac{5}{2}$

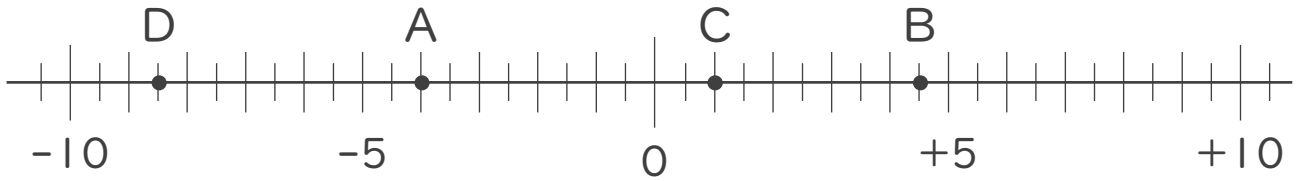
③  $-\frac{7}{2}$

④  $-1$





1. 次の数直線で、点A,B,C,Dに対応する数を答えなさい。



A:  $-4$

B:  $+4.5$

C:  $+1$

D:  $-8.5$

2. 次の数を数直線上に表しなさい。

①  $+9.5$     ②  $+\frac{5}{2}$     ③  $-\frac{7}{2}$     ④  $-1$

