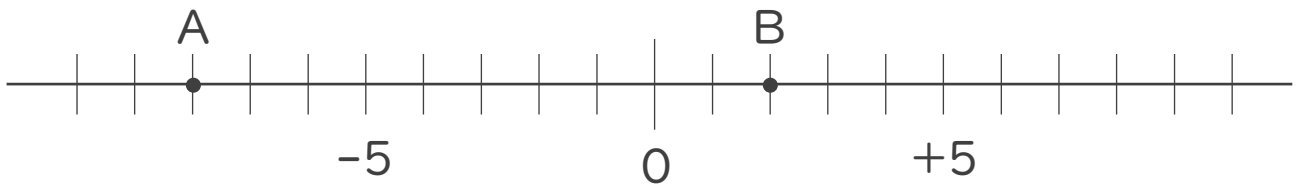




1. 次の数直線で、点A,Bに対応する数を答えなさい。

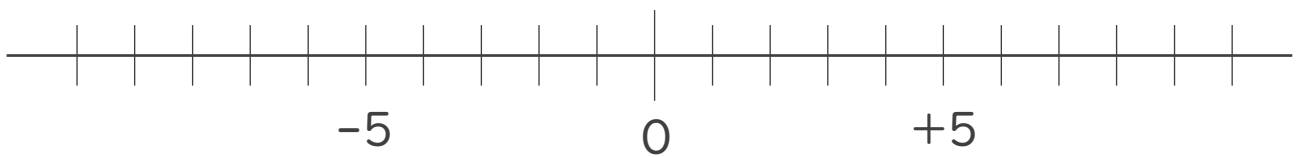


A :

B :

2. 次の数を数直線上に表しなさい。

① + 8 ② - 3



3. 次の数の中から整数をすべて選びなさい。

また自然数をすべて選びなさい。

-3 , $+13$, 1.9 , $+\frac{3}{4}$, $-\frac{1}{5}$, 2 , -0.2 , -18

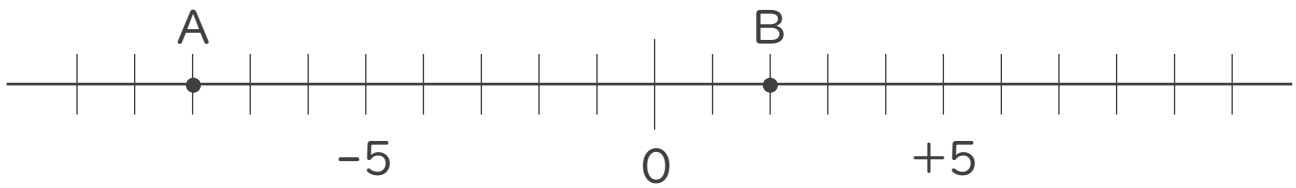
・ 整数 :

・ 自然数 :





1. 次の数直線で、点A,Bに対応する数を答えなさい。

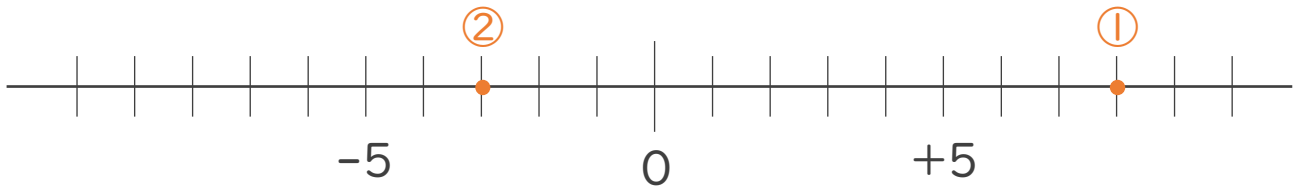


A: -8

B: $+2$

2. 次の数を数直線上に表しなさい。

① $+8$ ② -3



3. 次の数の中から整数をすべて選びなさい。

また自然数をすべて選びなさい。

$-3, +13, 1.9, +\frac{3}{4}, -\frac{1}{5}, 2, -0.2, -18$

・ 整数: $-3, +13, 2, -18$

・ 自然数: $+13, 2$

