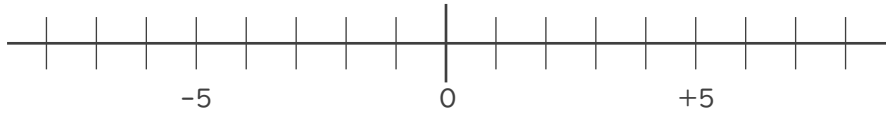




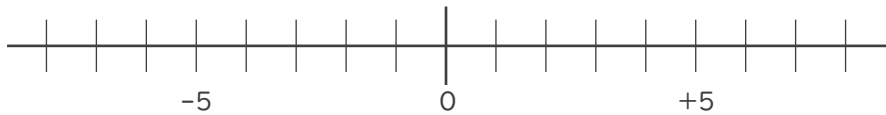
1. 数直線を使って次の数を求めなさい。

①  $-4$  より  $-1$  小さい数



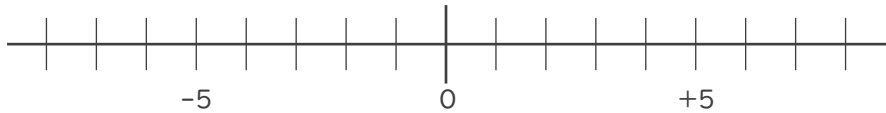
\_\_\_\_\_

②  $3$  より  $-9$  大きい数



\_\_\_\_\_

③  $-8$  より  $3$  大きい数



\_\_\_\_\_

2. 次の2つの数のうち、大きい数はどちらですか。

また、絶対値が大きい数はどちらですか。

①  $+9$  ,  $-2$

大きい数：

\_\_\_\_\_

絶対値が

大きい数：

\_\_\_\_\_

②  $-6$  ,  $3$

大きい数：

\_\_\_\_\_

絶対値が

大きい数：

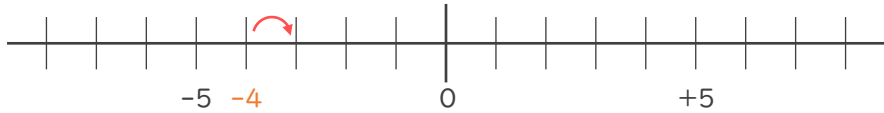
\_\_\_\_\_





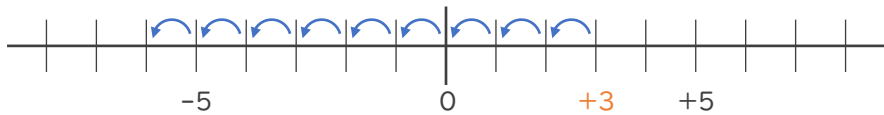
1. 数直線を使って次の数を求めなさい。

①  $-4$  より  $-1$  小さい数  $-1$  小さい数  $\rightarrow$   $1$  大きい数



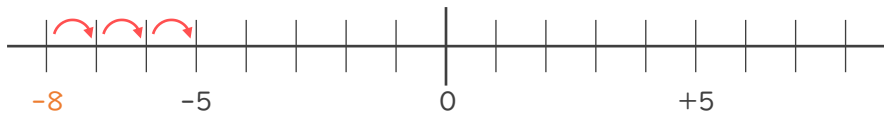
$-5$

②  $3$  より  $-9$  大きい数  $-9$  大きい数  $\rightarrow$   $9$  小さい数



$-6$

③  $-8$  より  $3$  大きい数



$-5$

2. 次の2つの数のうち、大きい数はどちらですか。

また、絶対値が大きい数はどちらですか。

①  $+9$  ,  $-2$

大きい数 :  $+9$

絶対値が

大きい数 :  $+9$

②  $-6$  ,  $3$

大きい数 :  $3$

絶対値が

大きい数 :  $-6$

