



1. 次の数を正の符号、負の符号を使って表しなさい。

① 0より $\frac{1}{6}$ 小さい数

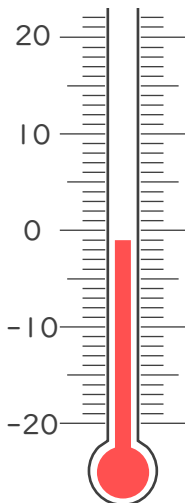
② 0より1.8小さい数

③ 0より11大きい数

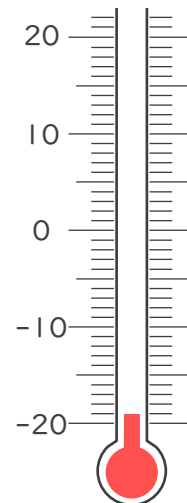
④ 0より $\frac{3}{5}$ 小さい数

2. 次の温度計が示す温度を書きなさい。

①



②







1. 次の数を正の符号、負の符号を使って表しなさい。

① 0より $\frac{1}{6}$ 小さい数

$-\frac{1}{6}$

② 0より1.8小さい数

-1.8

③ 0より11大きい数

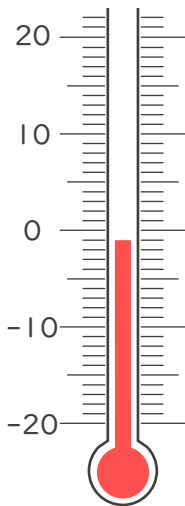
$+11$

④ 0より $\frac{3}{5}$ 小さい数

$-\frac{3}{5}$

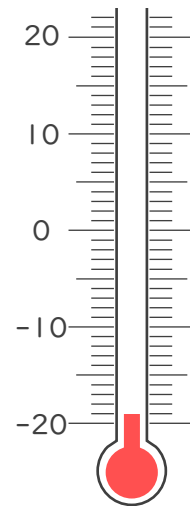
2. 次の温度計が示す温度を書きなさい。

①



-1°C

②



-19°C

