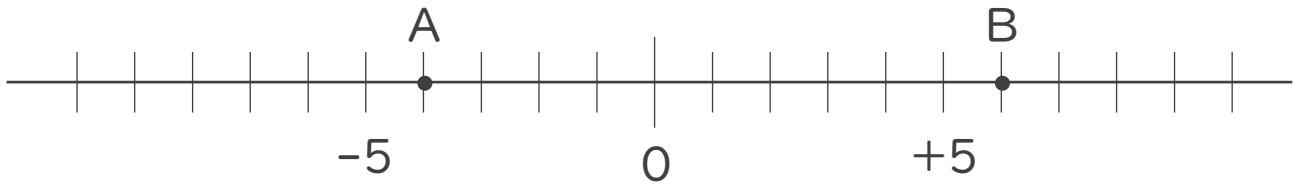




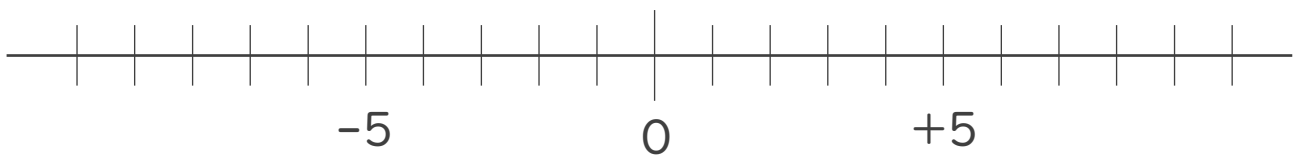
1. 次の数直線で、点A,Bに対応する数を答えなさい。(各20点)



A :

B :

2. 次の数を数直線上に表しなさい。(各20点)

①  $+7$       ②  $-3$ 

3. 次の数の中から整数をすべて選びなさい。

また自然数をすべて選びなさい。(各10点※完全正答)

$-\frac{1}{2}$  ,  $+9$  ,  $2.3$  ,  $0$  ,  $-5$  ,  $-4.7$  ,  $12$  ,  $\frac{5}{6}$

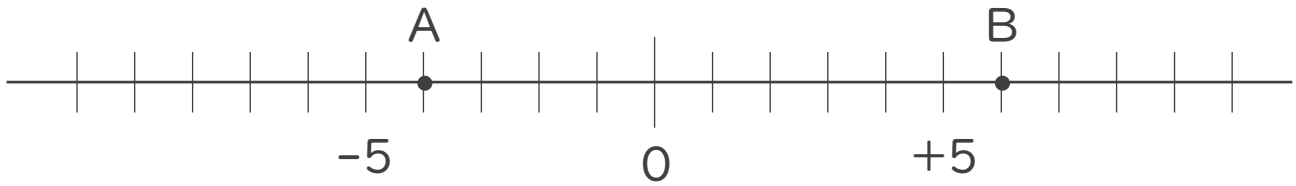
・ 整数 :

・ 自然数 :





1. 次の数直線で、点A,Bに対応する数を答えなさい。(各20点)

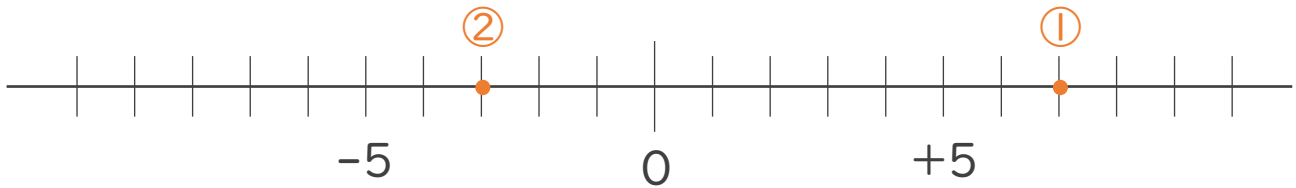


A: -4

B: +6

2. 次の数を数直線上に表しなさい。(各20点)

① +7      ② -3



3. 次の数の中から整数をすべて選びなさい。

また自然数をすべて選びなさい。(各10点※完全正答)

$-\frac{1}{2}$ , +9, 2.3, 0, -5, -4.7, 12,  $\frac{5}{6}$

・ 整数: +9, 0, -5, 12

・ 自然数: +9, 12

