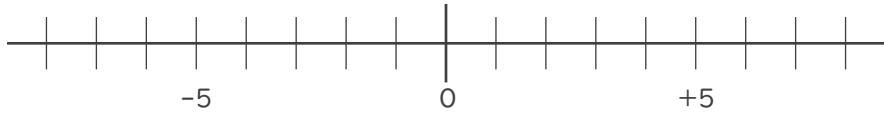




1. 数直線を使って次の数を求めなさい。(各20点)

① 3 より  $-2$  小さい数



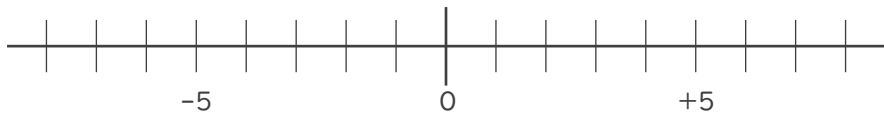
\_\_\_\_\_

②  $-1$  より  $-7$  大きい数



\_\_\_\_\_

③ 2 より 2 小さい数



\_\_\_\_\_

2. 次の2つの数のうち、大きい数はどちらですか。

また、絶対値が大きい数はどちらですか。(各10点)

① 8 ,  $-4$

大きい数 :

\_\_\_\_\_

絶対値が

大きい数 :

\_\_\_\_\_

②  $-3$  ,  $+2$

大きい数 :

\_\_\_\_\_

絶対値が

大きい数 :

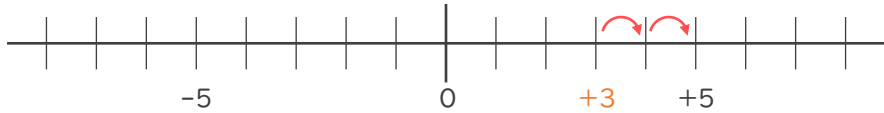
\_\_\_\_\_





1. 数直線を使って次の数を求めなさい。(各20点)

① 3より-2小さい数 -2小さい数→2大きい数



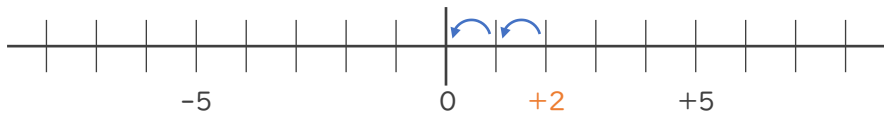
          + 5          

② -1より-7大きい数 -7大きい数→7小さい数



          - 8          

③ 2より2小さい数



          0          

2. 次の2つの数のうち、大きい数はどちらですか。  
また、絶対値が大きい数はどちらですか。(各10点)

① 8 , - 4

大きい数 :           8          

絶対値が  
大きい数 :           8          

② - 3 , + 2

大きい数 :           + 2          

絶対値が  
大きい数 :           - 3          

