



1. 次の数を正の符号、負の符号を使って表しなさい。(各20点)

① 0より $\frac{3}{4}$ 小さい数

\_\_\_\_\_

② 0より7大きい数

\_\_\_\_\_

③ 0より1.4小さい数

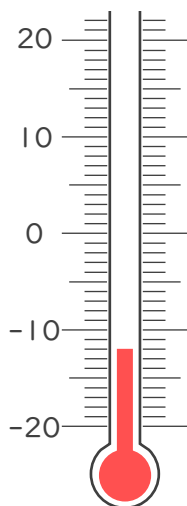
\_\_\_\_\_

④ 0より10小さい数

\_\_\_\_\_

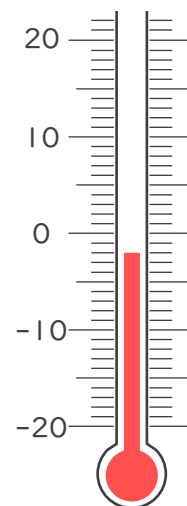
2. 次の温度計が示す温度を書きなさい。(各10点)

①



\_\_\_\_\_

②



\_\_\_\_\_





1. 次の数を正の符号、負の符号を使って表しなさい。(各20点)

① 0より $\frac{3}{4}$ 小さい数

$-\frac{3}{4}$

② 0より7大きい数

$+7$

③ 0より1.4小さい数

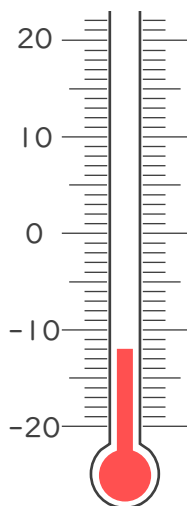
$-1.4$

④ 0より10小さい数

$-10$

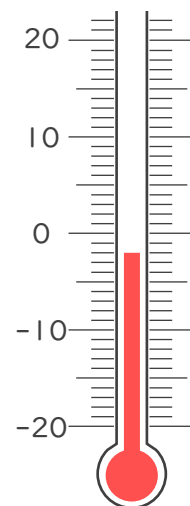
2. 次の温度計が示す温度を書きなさい。(各10点)

①



$-12^{\circ}\text{C}$

②



$-2^{\circ}\text{C}$

