



1. 次の温度を－^{マイナス}を使って表しなさい。(各15点)

① 0℃より3℃低い温度

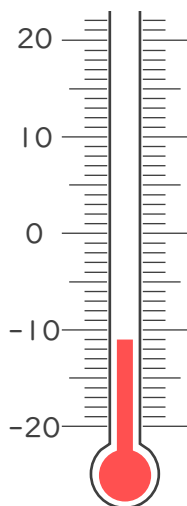
② 0℃より2.6℃低い温度

③ 0℃より12℃低い温度

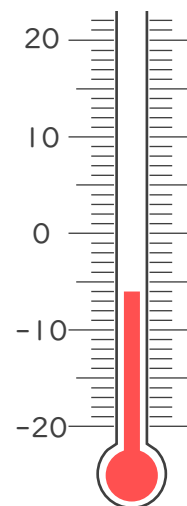
④ 0℃より5.9℃低い温度

2. 次の温度計が示す温度を書きなさい。(各20点)

①



②







1. 次の温度を－^{マイナス}を使って表しなさい。(各15点)

① 0℃より3℃低い温度

－3℃

② 0℃より2.6℃低い温度

－2.6℃

③ 0℃より12℃低い温度

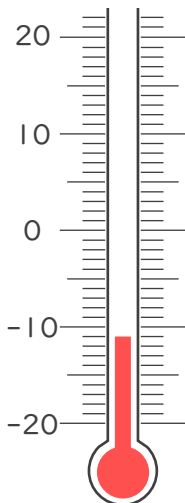
－12℃

④ 0℃より5.9℃低い温度

－5.9℃

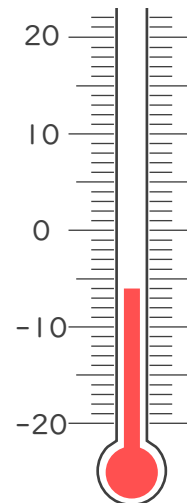
2. 次の温度計が示す温度を書きなさい。(各20点)

①



－11℃

②



－6℃

