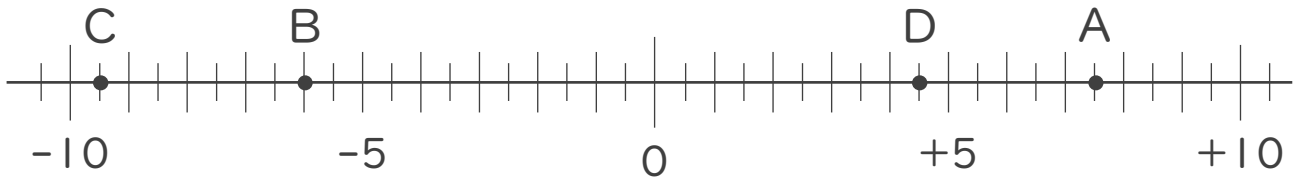




1. 次の数直線で、点A,B,C,Dに対応する数を答えなさい。(各10点)



A :

B :

C :

D :

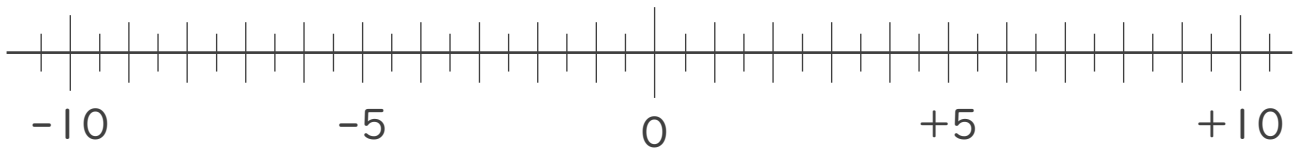
2. 次の数を数直線上に表しなさい。(各15点)

① $+\frac{9}{2}$

② $+9$

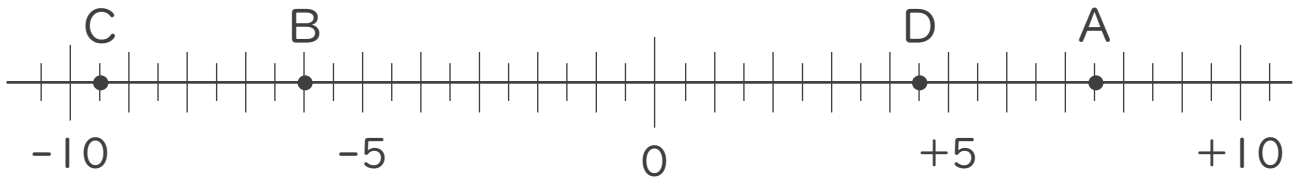
③ -4.5

④ $-\frac{3}{2}$





1. 次の数直線で、点A,B,C,Dに対応する数を答えなさい。(各10点)



A: +7.5

B: -6

C: -9.5

D: +4.5

2. 次の数を数直線上に表しなさい。(各15点)

① $+\frac{9}{2}$ ② $+9$ ③ -4.5 ④ $-\frac{3}{2}$

