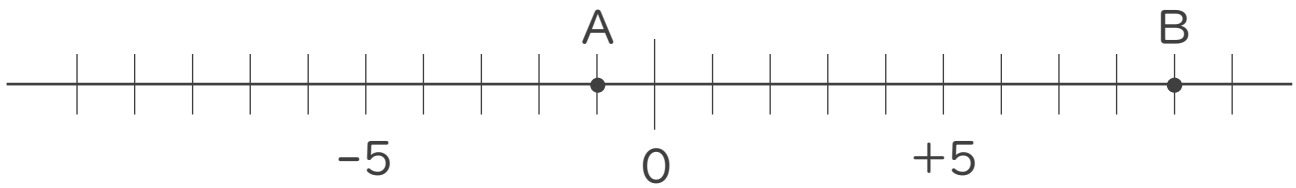




1. 次の数直線で、点A,Bに対応する数を答えなさい。(各20点)

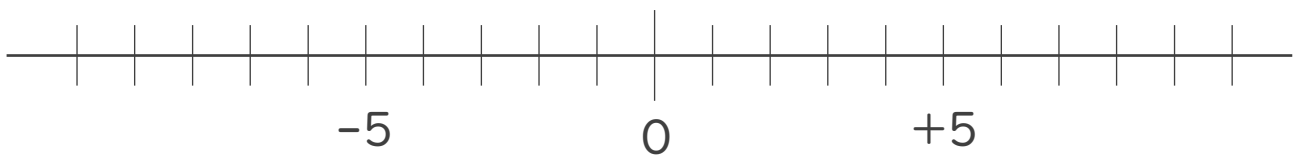


A :

B :

2. 次の数を数直線上に表しなさい。(各20点)

① + 3      ② - 7



3. 次の数の中から整数をすべて選びなさい。

また自然数をすべて選びなさい。(各10点※完全正答)

+15, +0.9,  $\frac{3}{5}$ , -11, +3.5,  $-\frac{2}{3}$ , -4, 9

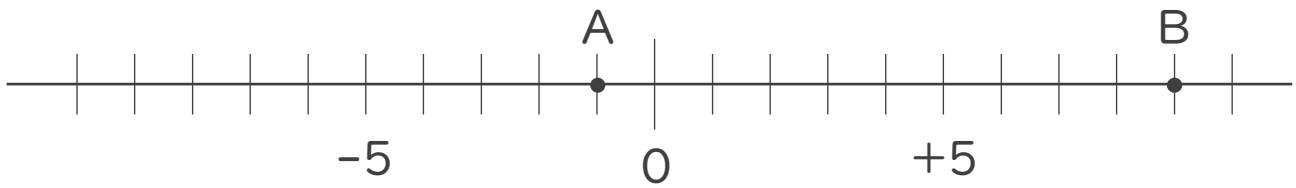
・ 整数 :

・ 自然数 :



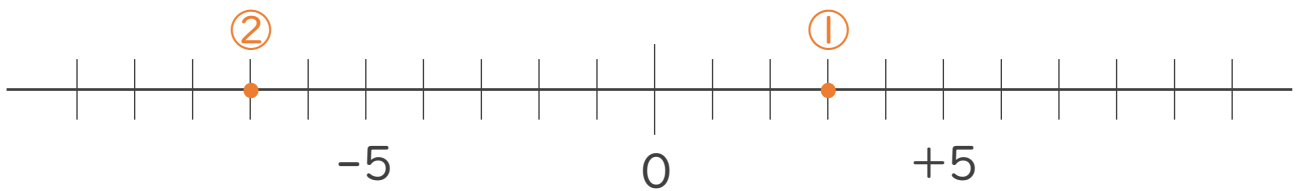


1. 次の数直線で、点A,Bに対応する数を答えなさい。(各20点)

A: -1B: +9

2. 次の数を数直線上に表しなさい。(各20点)

① +3      ② -7



3. 次の数の中から整数をすべて選びなさい。

また自然数をすべて選びなさい。(各10点※完全正答)

+15, +0.9,  $\frac{3}{5}$ , -11, +3.5,  $-\frac{2}{3}$ , -4, 9

・ 整数: +15, -11, -4, 9・ 自然数: +15, 9