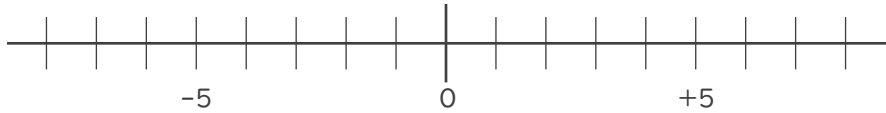




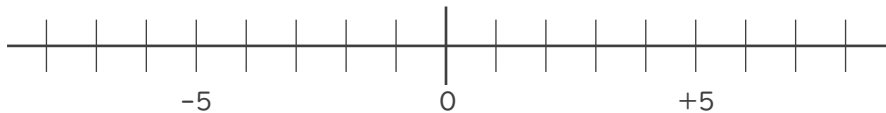
1. 数直線を使って次の数を求めなさい。(各20点)

① 2より-8大きい数



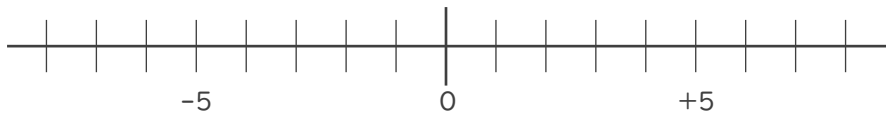
\_\_\_\_\_

② -7より-4小さい数



\_\_\_\_\_

③ -5より9大きい数



\_\_\_\_\_

2. 次の2つの数のうち、大きい数はどちらですか。

また、絶対値が大きい数はどちらですか。(各10点)

① 7, -8

大きい数:

\_\_\_\_\_

絶対値が

大きい数:

\_\_\_\_\_

② -9, -1

大きい数:

\_\_\_\_\_

絶対値が

大きい数:

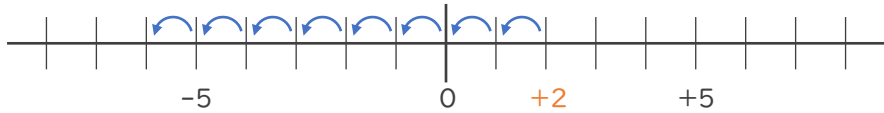
\_\_\_\_\_





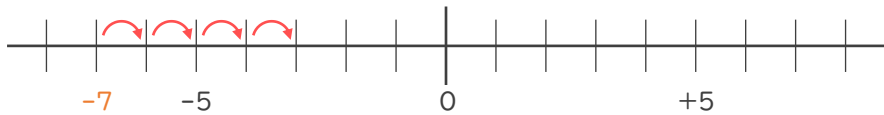
1. 数直線を使って次の数を求めなさい。(各20点)

① 2より-8大きい数      -8大きい数→8小さい数



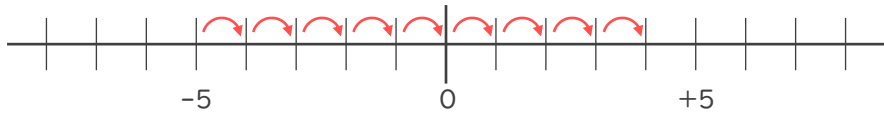
- 6

② -7より-4小さい数      -4小さい数→4大きい数



- 3

③ -5より9大きい数



+ 4

2. 次の2つの数のうち、大きい数はどちらですか。

また、絶対値が大きい数はどちらですか。(各10点)

① 7, -8

大きい数: 7

絶対値が

大きい数: -8

② -9, -1

大きい数: -1

絶対値が

大きい数: -9

