



1. 次の数を正の符号、負の符号を使って表しなさい。(各20点)

① 0より $\frac{7}{10}$ 大きい数

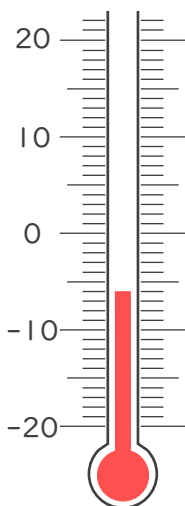
② 0より3.4小さい数

③ 0より20小さい数

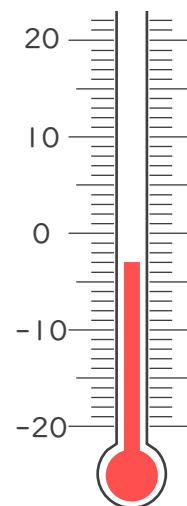
④ 0より $\frac{1}{5}$ 小さい数

2. 次の温度計が示す温度を書きなさい。(各10点)

①



②







1. 次の数を正の符号、負の符号を使って表しなさい。(各20点)

① 0より $\frac{7}{10}$ 大きい数

$$+\frac{7}{10}$$

② 0より3.4小さい数

$$-3.4$$

③ 0より20小さい数

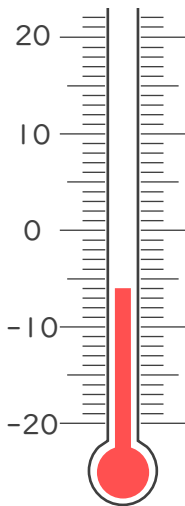
$$-20$$

④ 0より $\frac{1}{5}$ 小さい数

$$-\frac{1}{5}$$

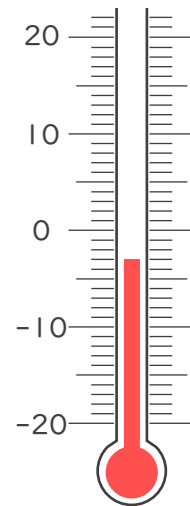
2. 次の温度計が示す温度を書きなさい。(各10点)

①



-6°C

②



-3°C

