



1. 次の温度を－^{マイナス}を使って表しなさい。(各15点)

① 0℃より17℃低い温度

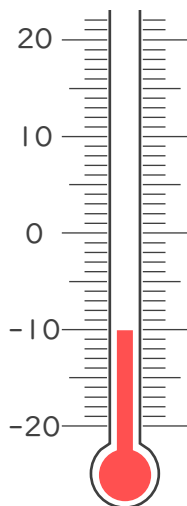
② 0℃より0.6℃低い温度

③ 0℃より7℃低い温度

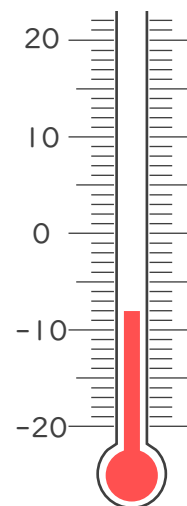
④ 0℃より3.4℃低い温度

2. 次の温度計が示す温度を書きなさい。(各20点)

①



②







1. 次の温度を－^{マイナス}を使って表しなさい。(各15点)

① 0℃より17℃低い温度

－17℃

② 0℃より0.6℃低い温度

－0.6℃

③ 0℃より7℃低い温度

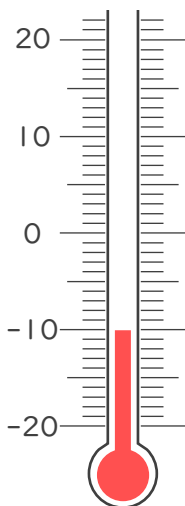
－7℃

④ 0℃より3.4℃低い温度

－3.4℃

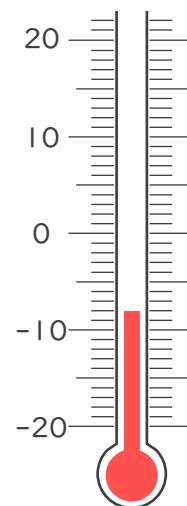
2. 次の温度計が示す温度を書きなさい。(各20点)

①



－10℃

②



－8℃

