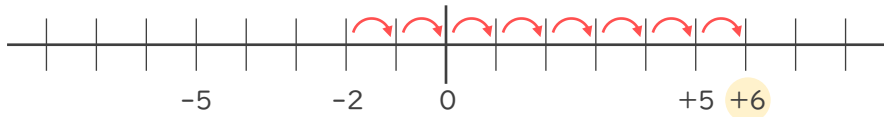




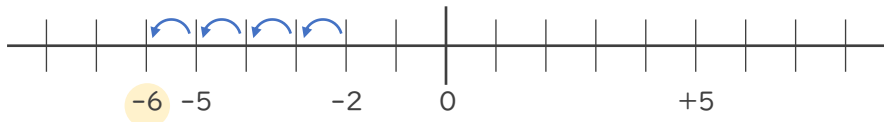
- 数直線を使って次の数を求めなさい。

① -2 より 8 大きい数

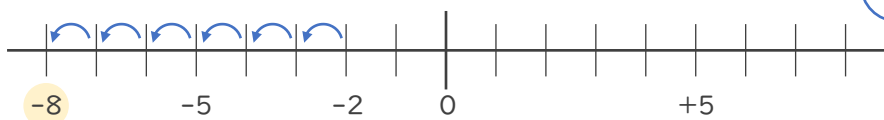


+ 6

② -2 より 4 小さい数



③ -2 より -6 大きい数

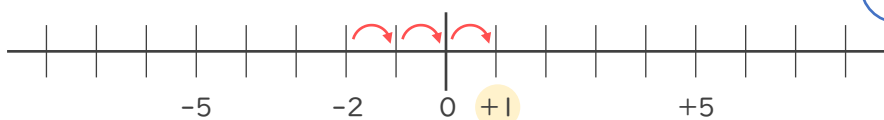


-6 大きい数



6 小さい数

④ -2 より -3 小さい数



-3 小さい数



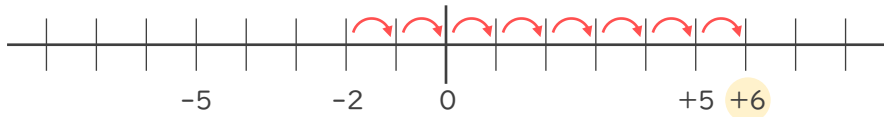
3 大きい数





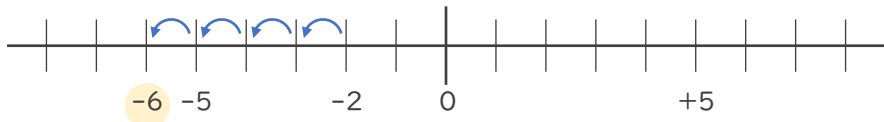
・ 数直線を使って次の数を求めなさい。

① -2 より 8 大きい数



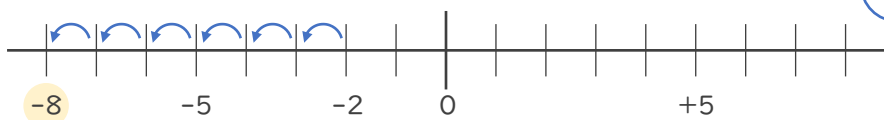
$+6$ (6でも可)

② -2 より 4 小さい数



-6

③ -2 より -6 大きい数



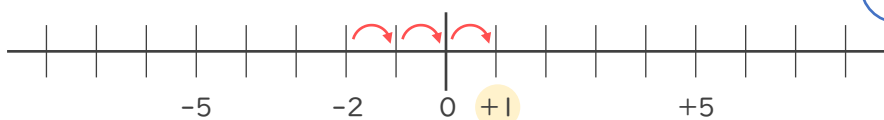
-6 大きい数

↓

6 小さい数

-8

④ -2 より -3 小さい数



-3 小さい数

↓

3 大きい数

$+1$ (1でも可)

