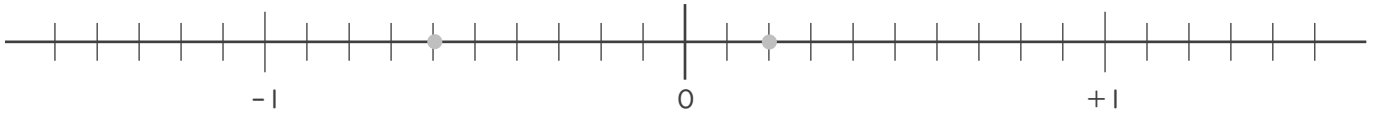


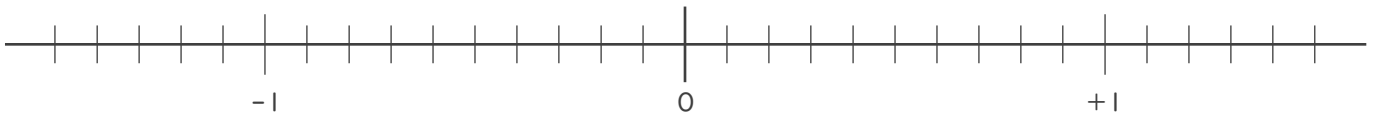


・ 次の に不等号を入れて2数の大小を表しなさい。

① $+0.2$ -0.6



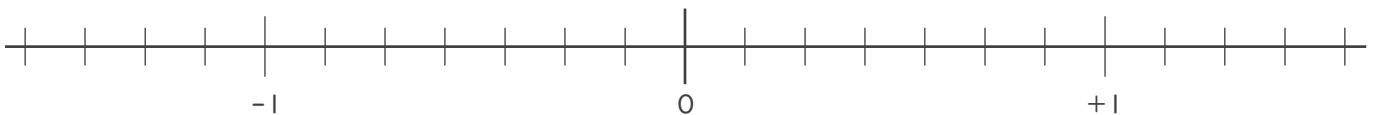
② $+1.1$ -0.4



③ $-\frac{1}{4}$ $\frac{3}{4}$



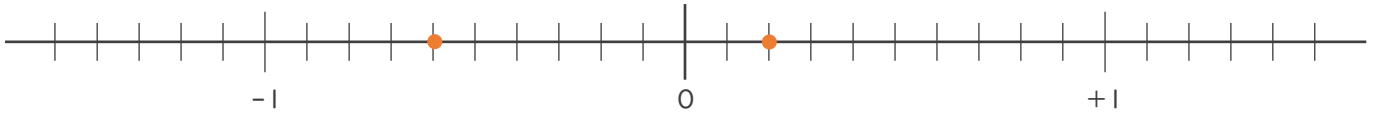
④ $-\frac{6}{7}$ $+\frac{3}{7}$



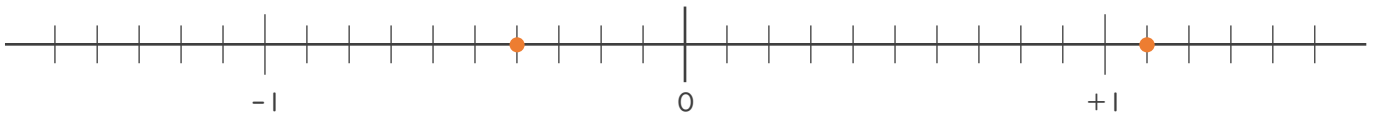


・ 次の に不等号を入れて2数の大小を表しなさい。

① $+0.2$ -0.6



② $+1.1$ -0.4



③ $-\frac{1}{4}$ $\frac{3}{4}$



④ $-\frac{6}{7}$ $+\frac{3}{7}$

