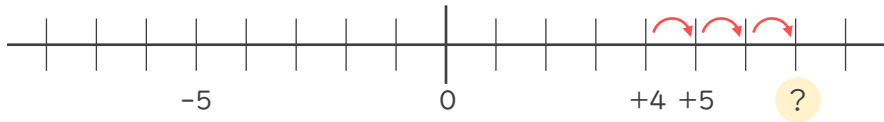


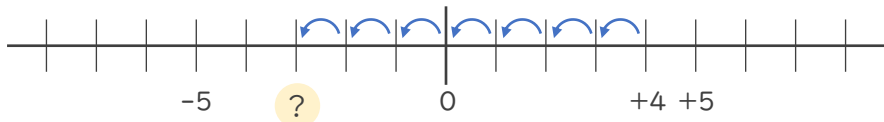


- 数直線を使って次の数を求めなさい。

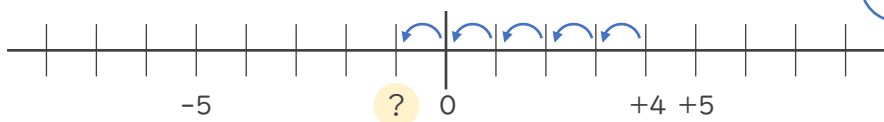
① 4より3大きい数



② 4より7小さい数



③ 4より-5大きい数

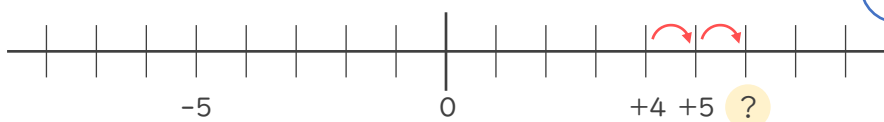


-5 大きい数



5 小さい数

④ 4より-2小さい数



-2 小さい数



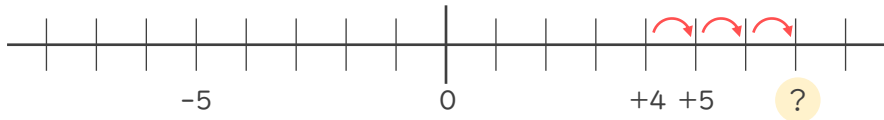
2 大きい数





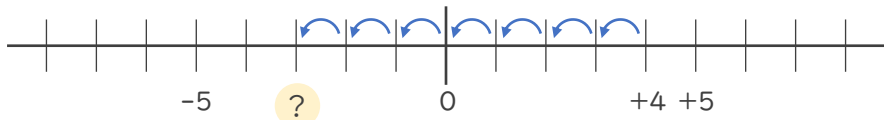
- ・ 数直線を使って次の数を求めなさい。

① 4 より 3 大きい数



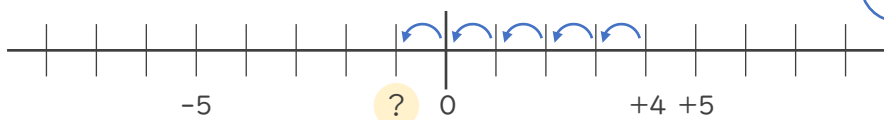
+ 7 (7でも可)

② 4 より 7 小さい数



- 3

③ 4 より - 5 大きい数



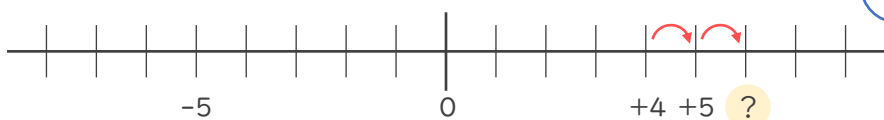
- 5 大きい数



5 小さい数

- 1

④ 4 より - 2 小さい数



- 2 小さい数



2 大きい数

+ 6 (6でも可)

