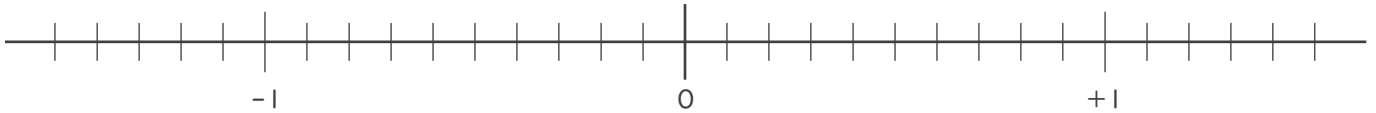


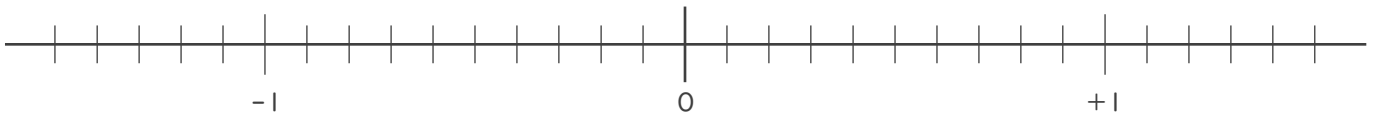


・ 次の に不等号を入れて2数の大小を表しなさい。

① -1.3 $+1.2$



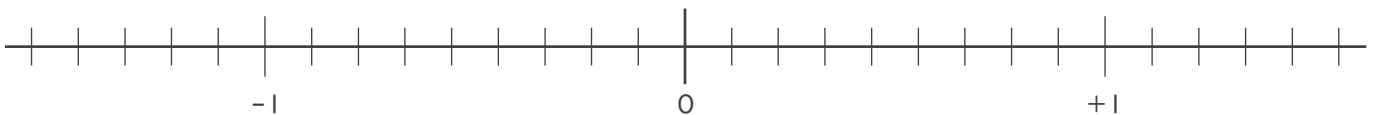
② $+0.2$ -0.1



③ 0 $-\frac{1}{2}$



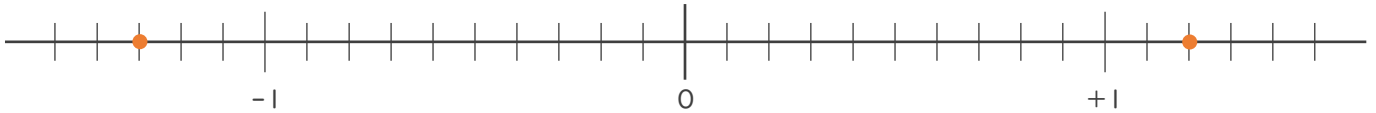
④ $-\frac{2}{9}$ $\frac{5}{9}$



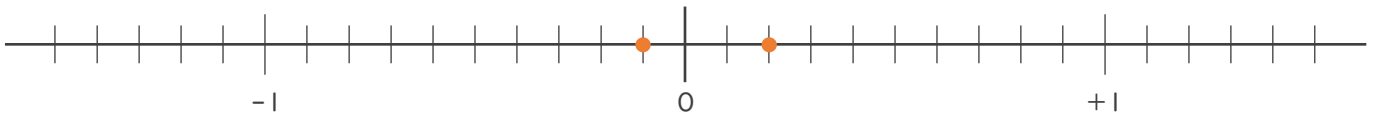


・ 次の に不等号を入れて2数の大小を表しなさい。

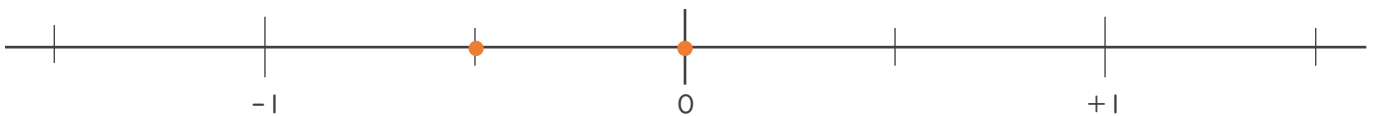
① -1.3 $+1.2$



② $+0.2$ -0.1



③ 0 $-\frac{1}{2}$



④ $-\frac{2}{9}$ $\frac{5}{9}$

