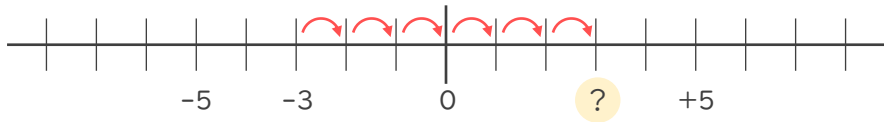


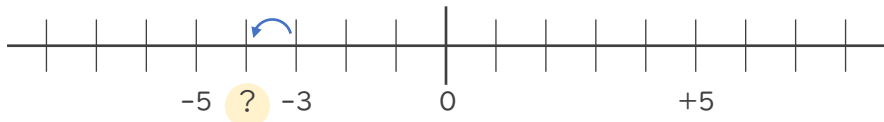


- 数直線を使って次の数を求めなさい。

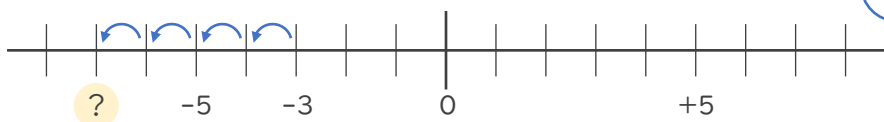
① -3 より 6 大きい数



② -3 より 1 小さい数



③ -3 より -4 大きい数

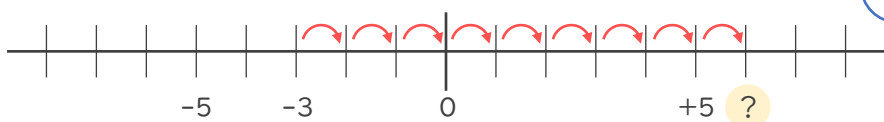


-4 大きい数



4 _____ 数

④ -3 より -9 小さい数



-9 小さい数



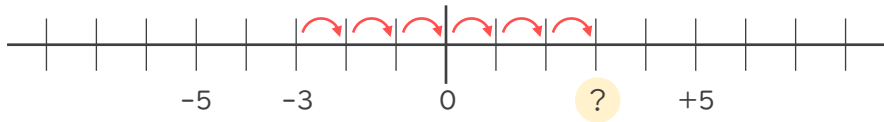
9 _____ 数





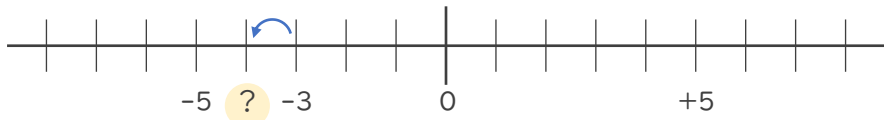
・ 数直線を使って次の数を求めなさい。

① -3 より 6 大きい数



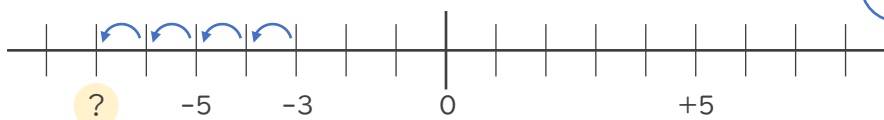
$+3$ (3でも可)

② -3 より 1 小さい数



-4

③ -3 より -4 大きい数



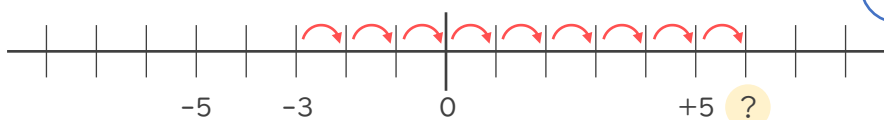
-4 大きい数

↓

4 小さい数

-7

④ -3 より -9 小さい数



-9 小さい数

↓

9 大きい数

$+6$ (6でも可)

