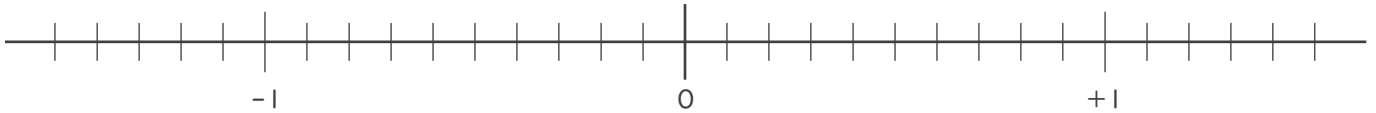


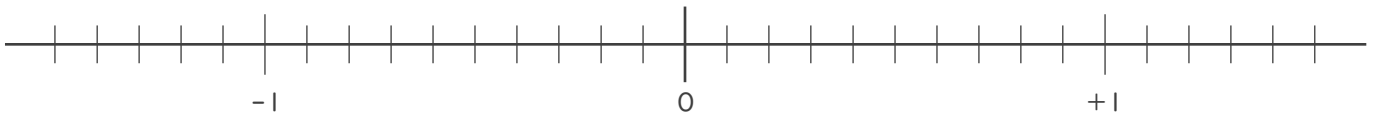


・ 次の に不等号を入れて2数の大小を表しなさい。

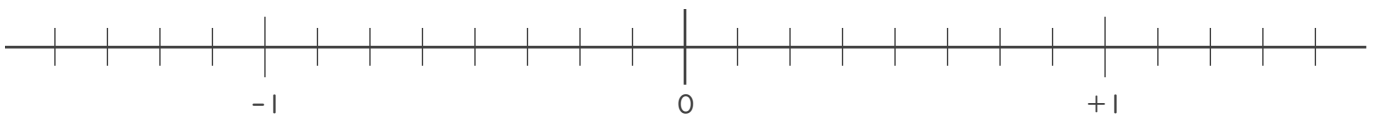
① 1.3 -0.3



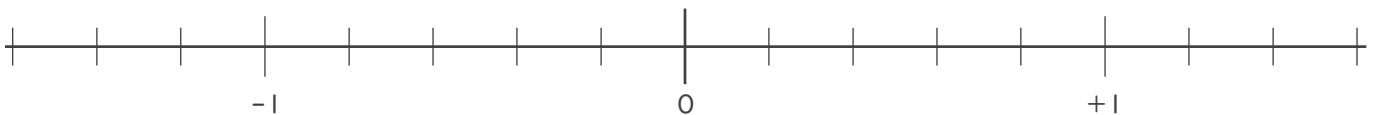
② -0.9 $+0.6$



③ $-\frac{3}{8}$ $+\frac{5}{8}$



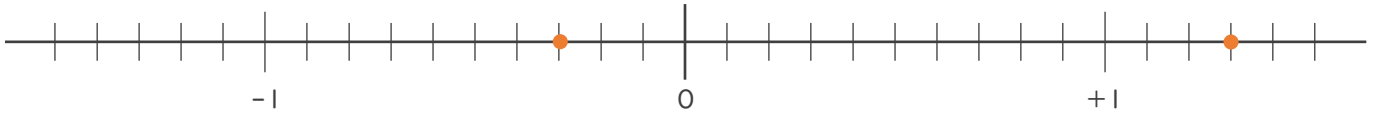
④ $+\frac{2}{5}$ $-\frac{1}{5}$



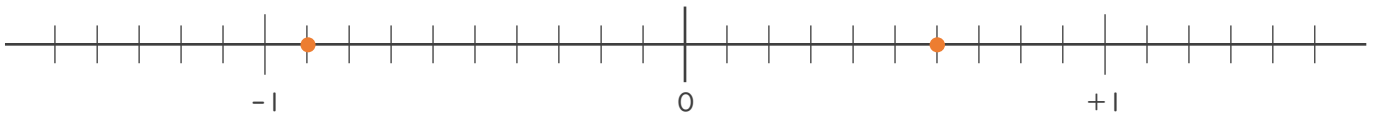


・ 次の に不等号を入れて2数の大小を表しなさい。

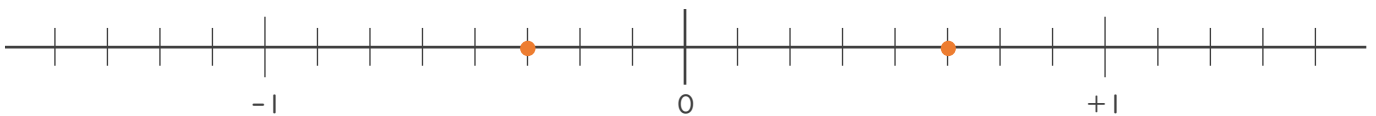
① 1.3 -0.3



② -0.9 $+0.6$



③ $-\frac{3}{8}$ $+\frac{5}{8}$



④ $+\frac{2}{5}$ $-\frac{1}{5}$

