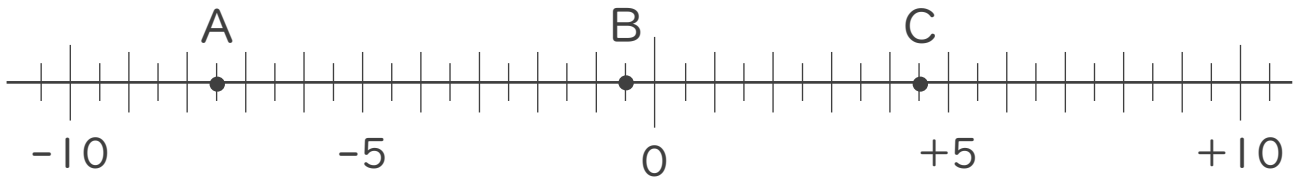




1. 次の数直線で、点A,B,Cに対応する数を答えなさい。



A: -7.5

B:

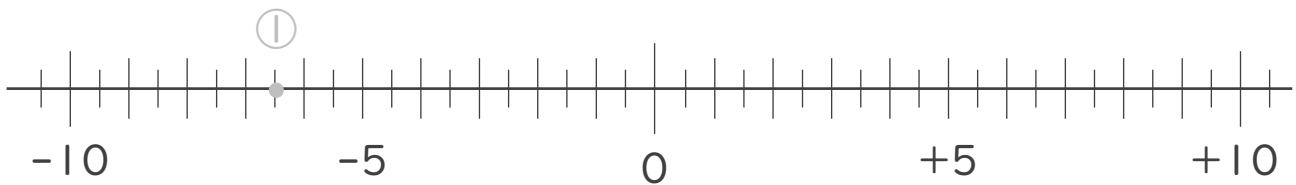
C:

2. 次の数を数直線上に表しなさい。

① $-\frac{13}{2}$

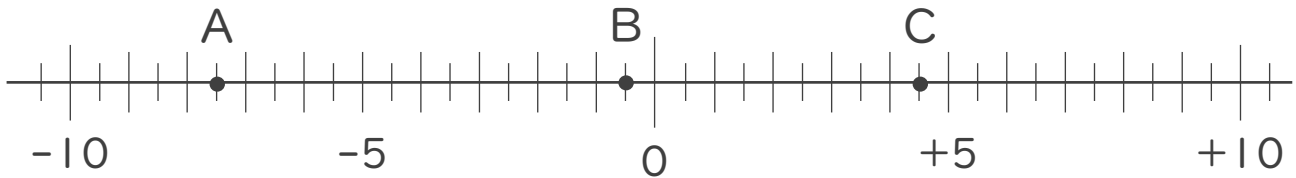
② $+\frac{11}{2}$

③ $-\frac{3}{2}$





1. 次の数直線で、点A,B,Cに対応する数を答えなさい。



A: -7.5

B: -0.5

C: +4.5

2. 次の数を数直線上に表しなさい。

① $-\frac{13}{2}$ ② $+\frac{11}{2}$ ③ $-\frac{3}{2}$

