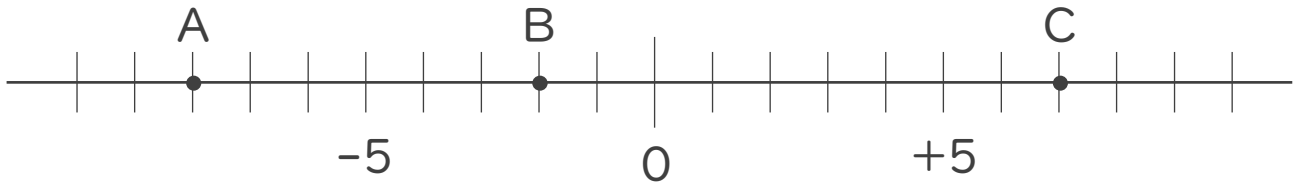




1. 次の数直線で、点A,B,Cに対応する数を答えなさい。



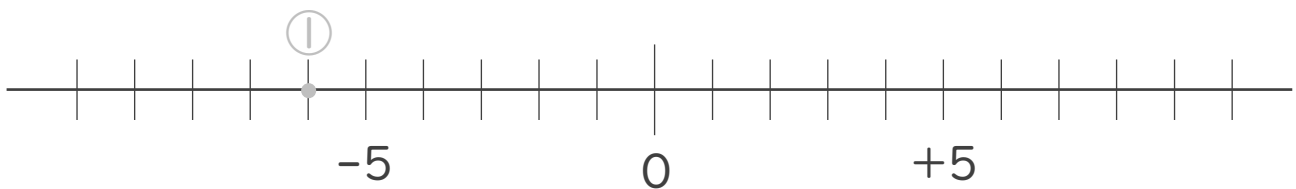
A: -8

B:

C:

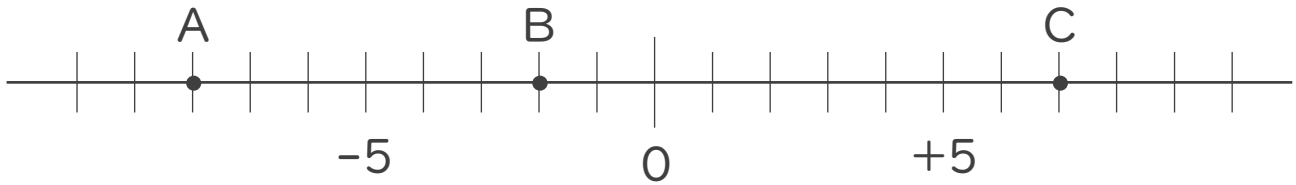
2. 次の数を数直線上に表しなさい。

① -6 ② +4 ③ -1





1. 次の数直線で、点A,B,Cに対応する数を答えなさい。



A: -8

B: -2

C: $+7$

2. 次の数を数直線上に表しなさい。

① -6 ② $+4$ ③ -1

