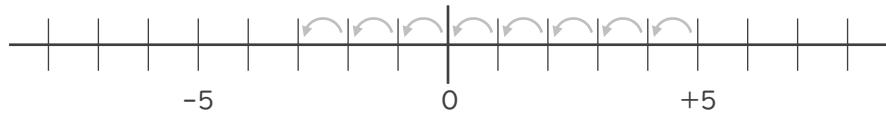




- 数直線を使って次の数を求めなさい。

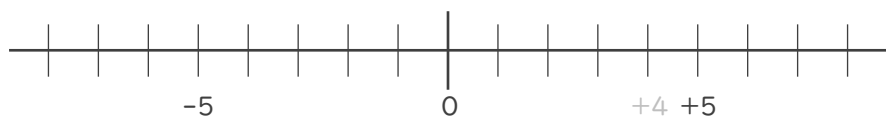
① 5より8小さい数



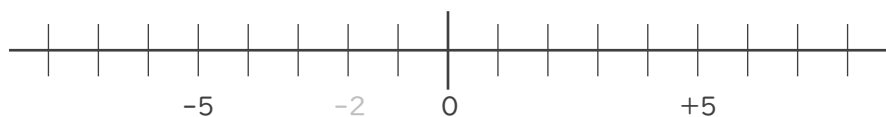
② -1より2大きい数



③ 4より-2小さい数 -2小さい数→2大きい数



④ -2より-3大きい数

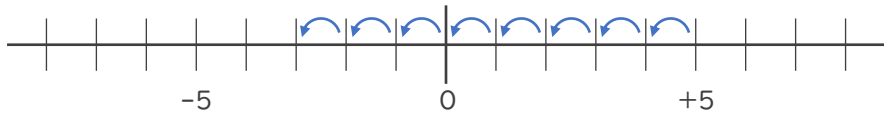






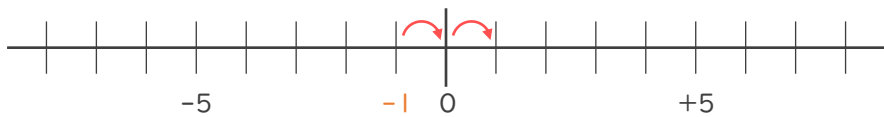
- 数直線を使って次の数を求めなさい。

① 5 より 8 小さい数



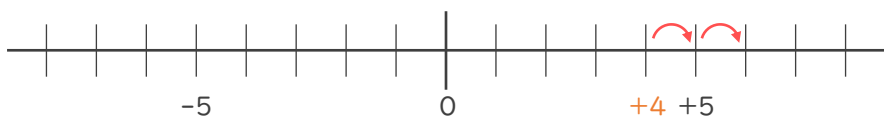
- 3

② - 1 より 2 大きい数



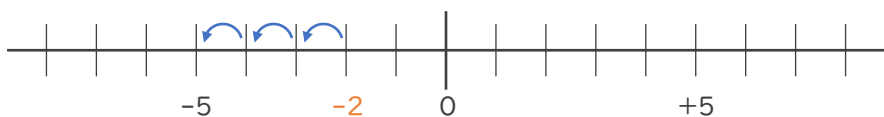
+ 1

③ 4 より - 2 小さい数 - 2 小さい数 → 2 大きい数



+ 6

④ - 2 より - 3 大きい数 - 3 大きい数 → 3 小さい数



- 5

