



1. 次の温度を－<sup>マイナス</sup>を使って表しなさい。

① 0℃より8℃低い温度

\_\_\_\_\_

② 0℃より6.7℃低い温度

\_\_\_\_\_

③ 0℃より1.4℃低い温度

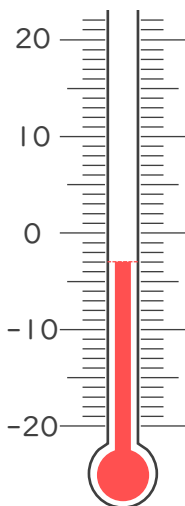
\_\_\_\_\_

④ 0℃より15℃低い温度

\_\_\_\_\_

2. 次の温度計が示す温度を書きなさい。

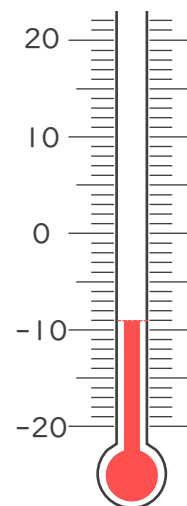
①



－ 3℃

\_\_\_\_\_

②



\_\_\_\_\_





1. 次の温度を－<sup>マイナス</sup>を使って表しなさい。

① 0℃より8℃低い温度

－8℃

② 0℃より6.7℃低い温度

－6.7℃

③ 0℃より1.4℃低い温度

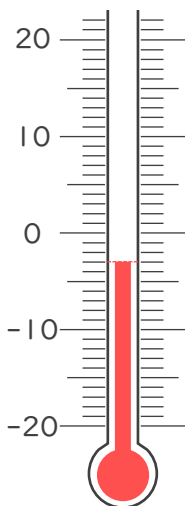
－1.4℃

④ 0℃より15℃低い温度

－15℃

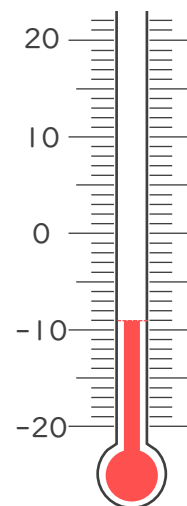
2. 次の温度計が示す温度を書きなさい。

①



－3℃

②



－9℃

