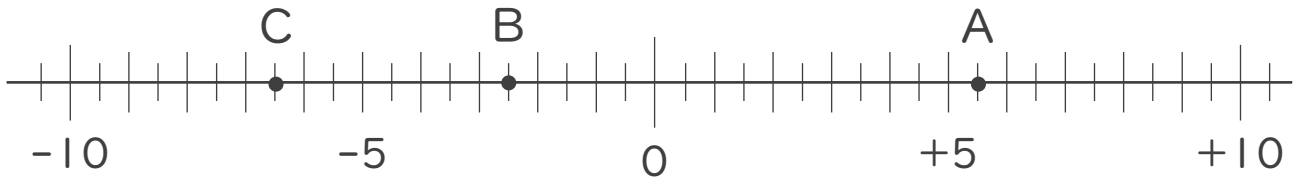




1. 次の数直線で、点A,B,Cに対応する数を答えなさい。



A :

\_\_\_\_\_

B :

\_\_\_\_\_

C :

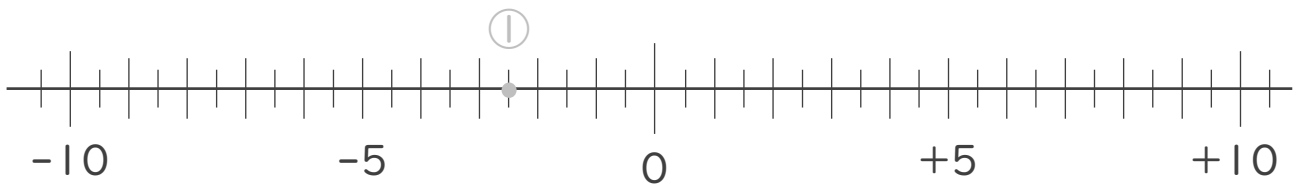
\_\_\_\_\_

2. 次の数を数直線上に表しなさい。

①  $-\frac{5}{2}$

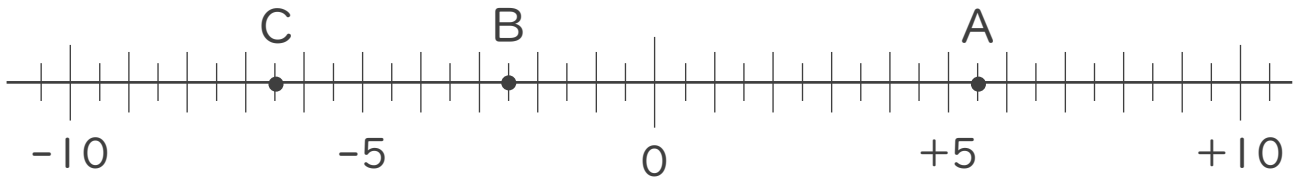
②  $-\frac{11}{2}$

③  $+\frac{7}{2}$





1. 次の数直線で、点A,B,Cに対応する数を答えなさい。



A: +5.5

B: -2.5

C: -6.5

2. 次の数を数直線上に表しなさい。

①  $-\frac{5}{2}$       ②  $-\frac{11}{2}$       ③  $+\frac{7}{2}$

