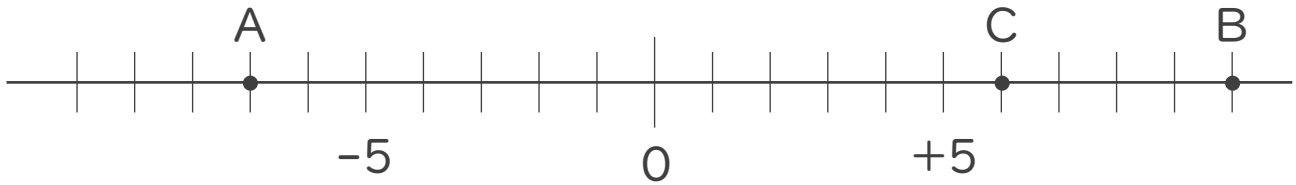




1. 次の数直線で、点A,B,Cに対応する数を答えなさい。



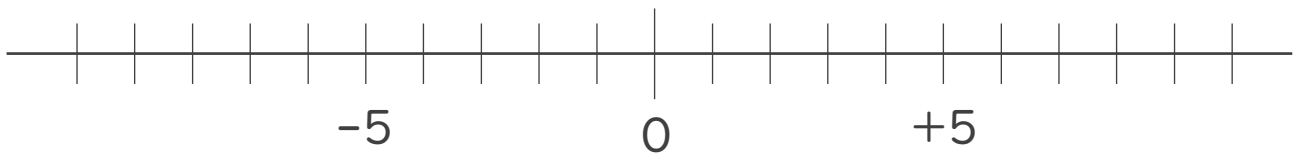
A :

B :

C :

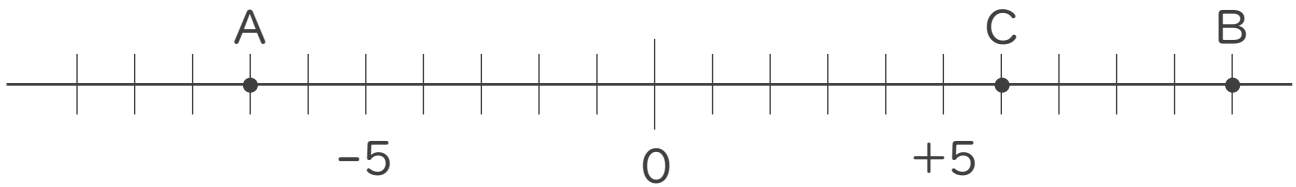
2. 次の数を数直線上に表しなさい。

① -8 ② $+9$ ③ -2





1. 次の数直線で、点A,B,Cに対応する数を答えなさい。



A: -7

B: $+10$

C: $+6$

2. 次の数を数直線上に表しなさい。

① -8 ② $+9$ ③ -2

