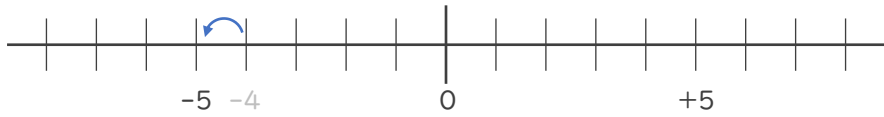


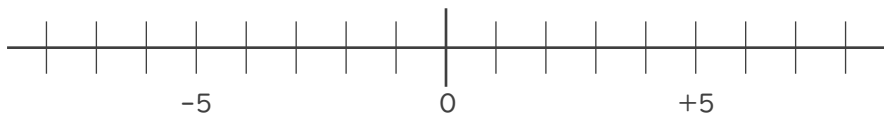


- 数直線を使って次の数を求めなさい。

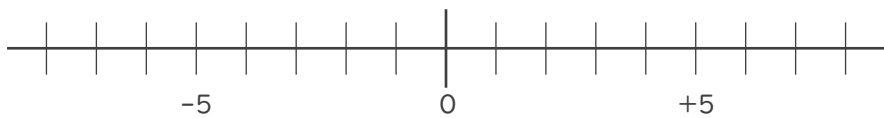
① -4 より -1 大きい数 -1 大きい数 \rightarrow 1 小さい数



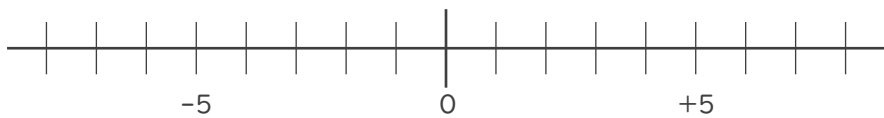
② 1 より -5 小さい数 -5 小さい数 \rightarrow



③ -2 より 4 大きい数



④ 5 より 9 小さい数

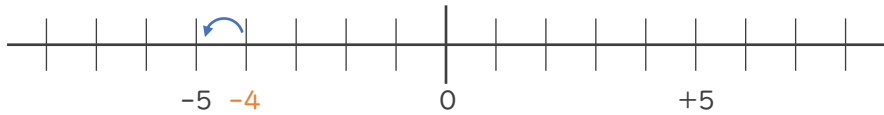






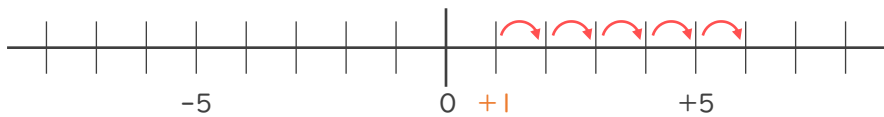
・ 数直線を使って次の数を求めなさい。

① -4 より -1 大きい数 -1 大きい数 $\rightarrow 1$ 小さい数



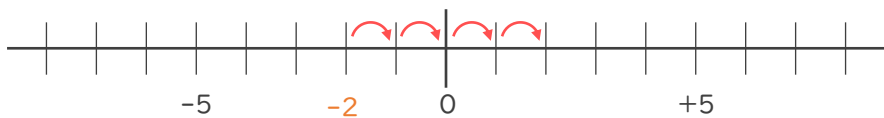
-5

② 1 より -5 小さい数 -5 小さい数 $\rightarrow 5$ 大きい数



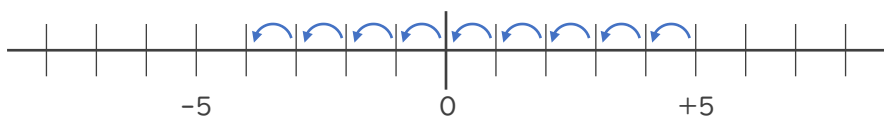
$+6$

③ -2 より 4 大きい数



$+2$

④ 5 より 9 小さい数



-4

