



1. 次の温度を－<sup>マイナス</sup>を使って表しなさい。

① 0℃より2℃低い温度

\_\_\_\_\_

② 0℃より4.5℃低い温度

\_\_\_\_\_

③ 0℃より14℃低い温度

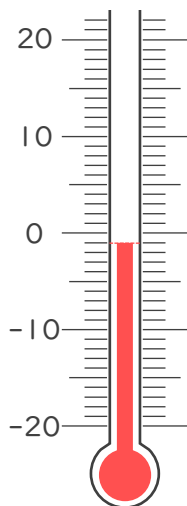
\_\_\_\_\_

④ 0℃より1.8℃低い温度

\_\_\_\_\_

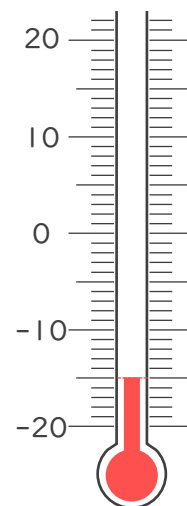
2. 次の温度計が示す温度を書きなさい。

①



\_\_\_\_\_

②



\_\_\_\_\_





1. 次の温度を－<sup>マイナス</sup>を使って表しなさい。

① 0℃より2℃低い温度

－2℃

② 0℃より4.5℃低い温度

－4.5℃

③ 0℃より14℃低い温度

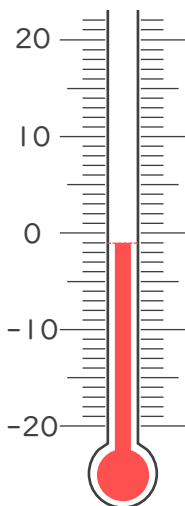
－14℃

④ 0℃より1.8℃低い温度

－1.8℃

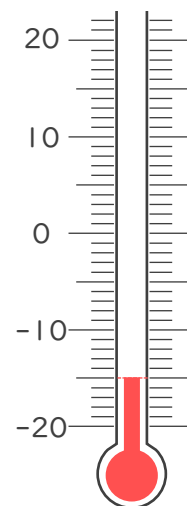
2. 次の温度計が示す温度を書きなさい。

①



－1℃

②



－15℃

