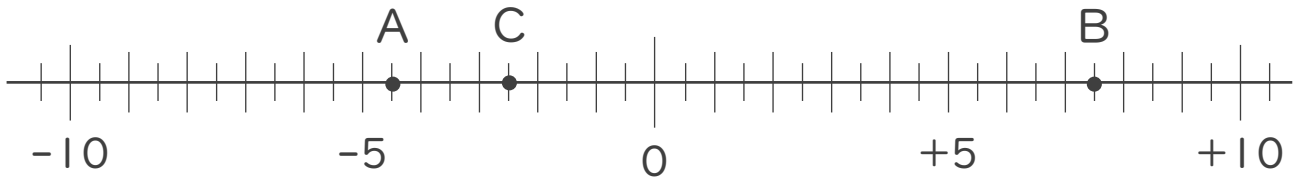




1. 次の数直線で、点A,B,Cに対応する数を答えなさい。



A :

B :

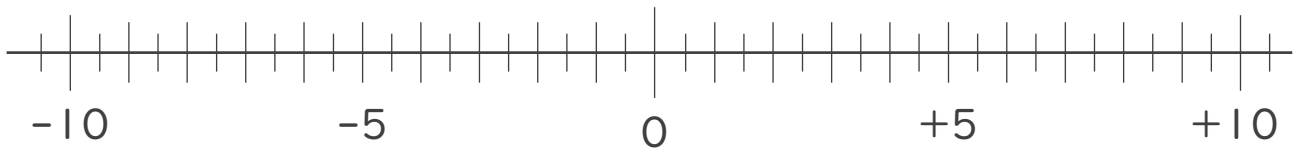
C :

2. 次の数を数直線上に表しなさい。

① $-\frac{11}{2}$

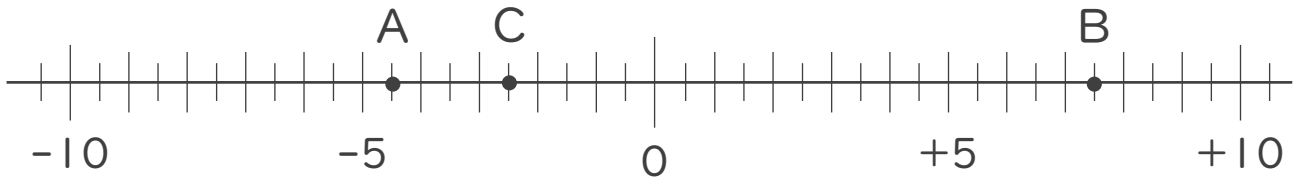
② $-\frac{1}{2}$

③ $+\frac{9}{2}$





1. 次の数直線で、点A,B,Cに対応する数を答えなさい。



A: -4.5

B: $+7.5$

C: -2.5

2. 次の数を数直線上に表しなさい。

① $-\frac{11}{2}$

② $-\frac{1}{2}$

③ $+\frac{9}{2}$

