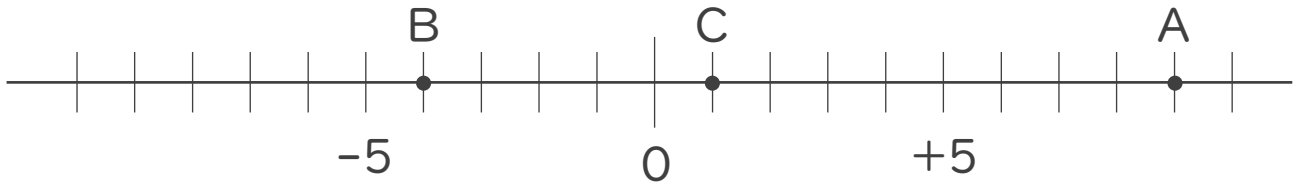




1. 次の数直線で、点A,B,Cに対応する数を答えなさい。



A:

B:

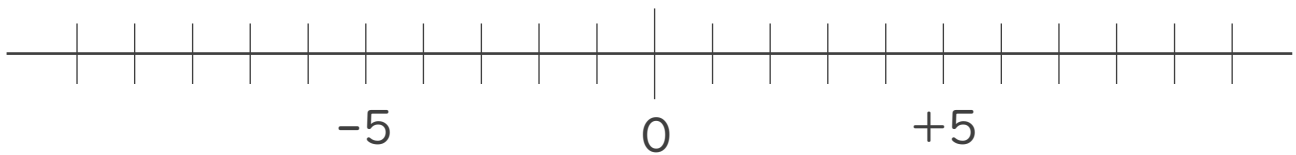
C:

2. 次の数を数直線上に表しなさい。

① -10

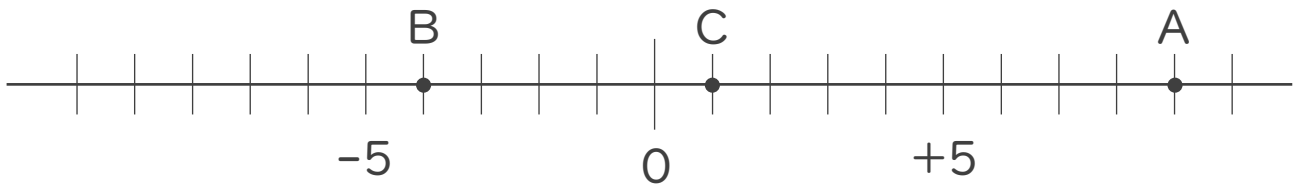
② $+7$

③ $+3$





1. 次の数直線で、点A,B,Cに対応する数を答えなさい。



A: + 9

B: - 4

C: + 1

2. 次の数を数直線上に表しなさい。

① - 10 ② + 7 ③ + 3

