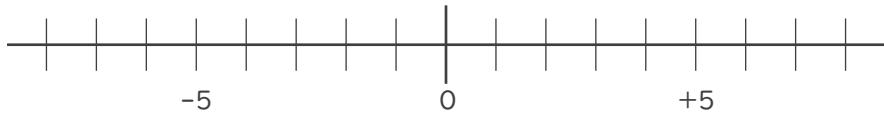




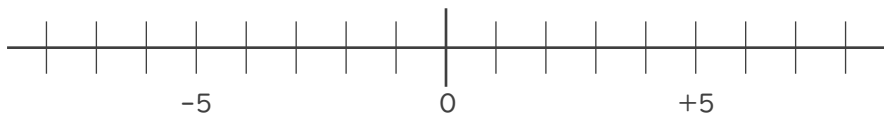
- 数直線を使って次の数を求めなさい。

①  $-6$  より  $-6$  小さい数



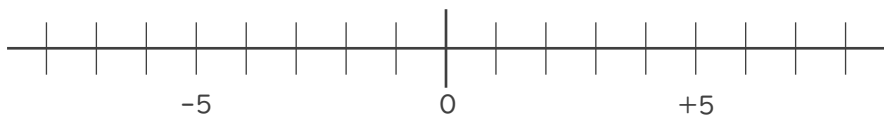
\_\_\_\_\_

②  $3$  より  $-5$  大きい数



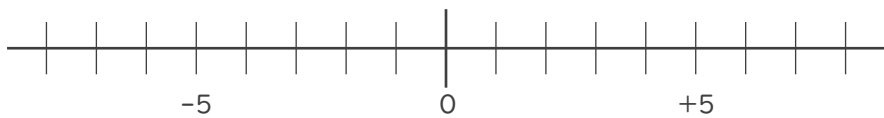
\_\_\_\_\_

③  $7$  より  $8$  小さい数



\_\_\_\_\_

④  $-1$  より  $3$  大きい数



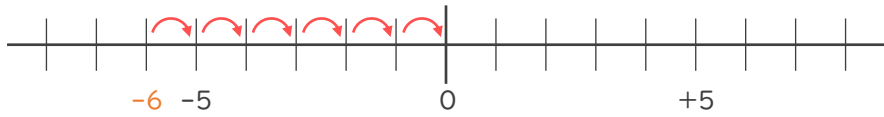
\_\_\_\_\_





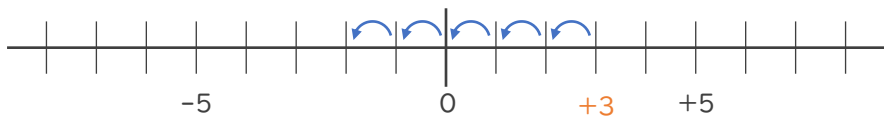
- 数直線を使って次の数を求めなさい。

①  $-6$  より  $-6$  小さい数  $-6$  小さい数  $\rightarrow 6$  大きい数



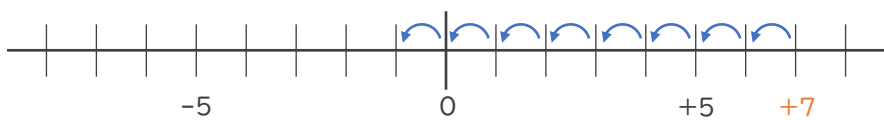
0

②  $3$  より  $-5$  大きい数  $-5$  大きい数  $\rightarrow 5$  小さい数



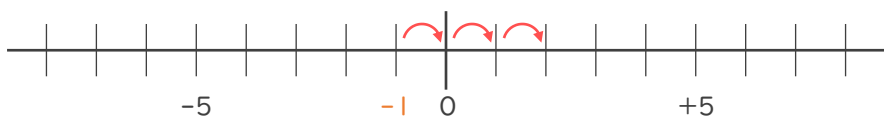
- 2

③  $7$  より  $8$  小さい数



- 1

④  $-1$  より  $3$  大きい数



+ 2

