



1. 次の温度を－<sup>マイナス</sup>を使って表しなさい。

① 0℃より10℃低い温度

\_\_\_\_\_

② 0℃より0.9℃低い温度

\_\_\_\_\_

③ 0℃より1.3℃低い温度

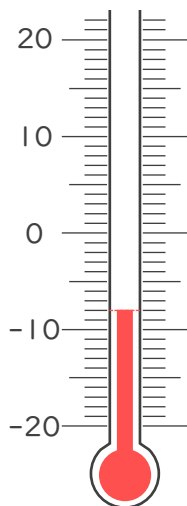
\_\_\_\_\_

④ 0℃より4℃低い温度

\_\_\_\_\_

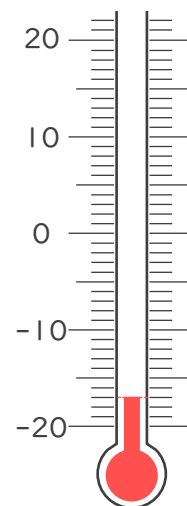
2. 次の温度計が示す温度を書きなさい。

①



\_\_\_\_\_

②



\_\_\_\_\_





1. 次の温度を－<sup>マイナス</sup>を使って表しなさい。

① 0℃より10℃低い温度

－10℃

② 0℃より0.9℃低い温度

－0.9℃

③ 0℃より1.3℃低い温度

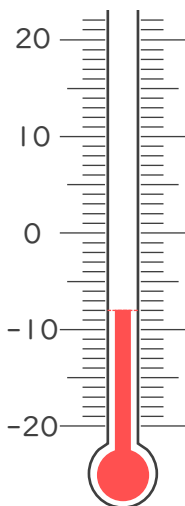
－1.3℃

④ 0℃より4℃低い温度

－4℃

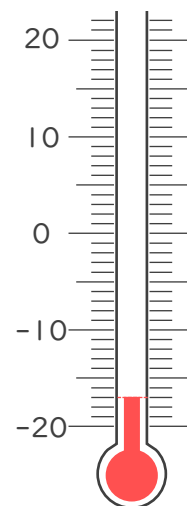
2. 次の温度計が示す温度を書きなさい。

①



－8℃

②



－17℃

