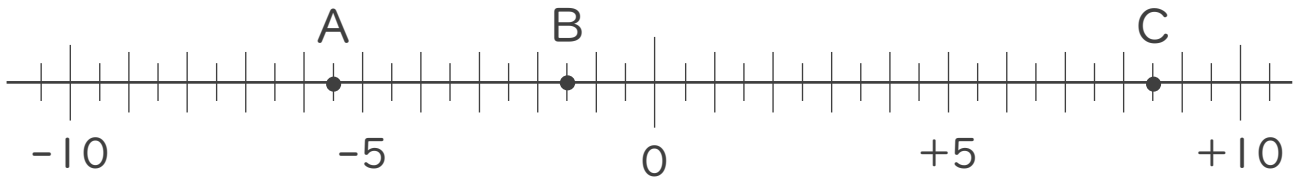




1. 次の数直線で、点A,B,Cに対応する数を答えなさい。



A :

B :

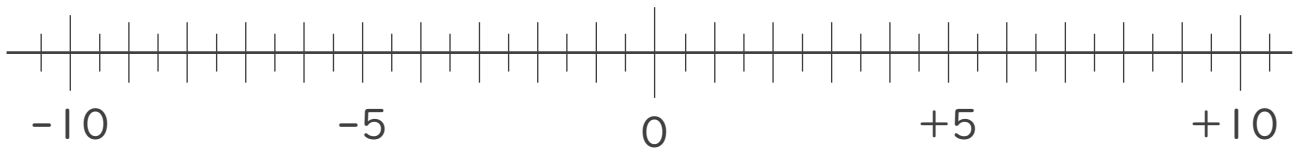
C :

2. 次の数を数直線上に表しなさい。

① $+\frac{5}{2}$

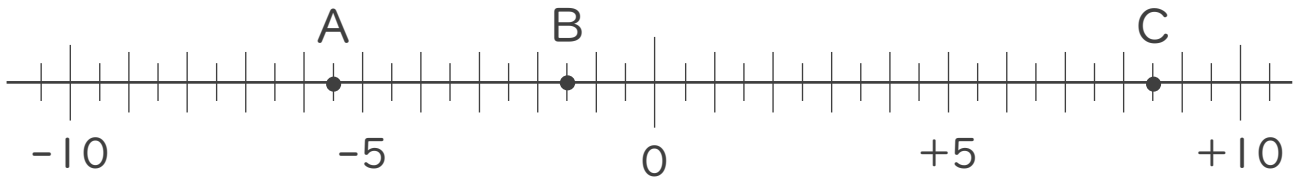
② $-\frac{7}{2}$

③ $-\frac{1}{2}$





1. 次の数直線で、点A,B,Cに対応する数を答えなさい。



A: -5.5

B: -1.5

C: +8.5

2. 次の数を数直線上に表しなさい。

① $+\frac{5}{2}$ ② $-\frac{7}{2}$ ③ $-\frac{1}{2}$

