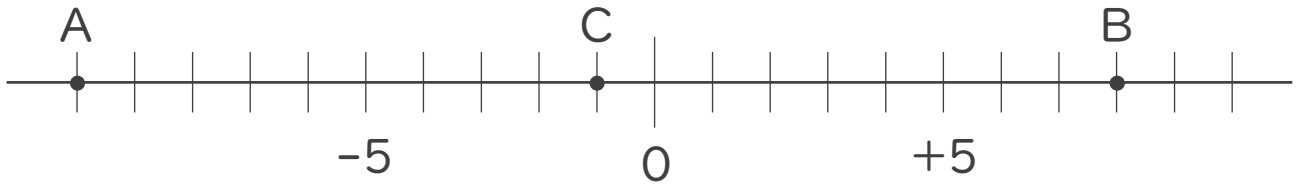




1. 次の数直線で、点A,B,Cに対応する数を答えなさい。



A :

B :

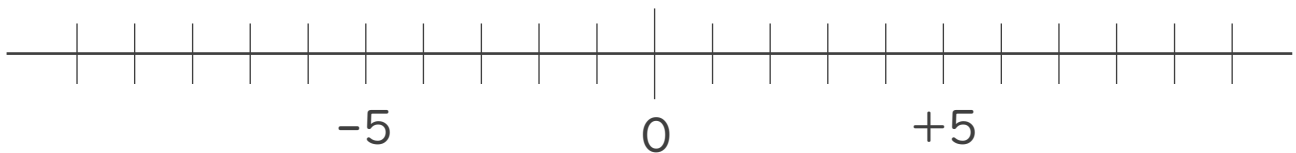
C :

2. 次の数を数直線上に表しなさい。

① + 4

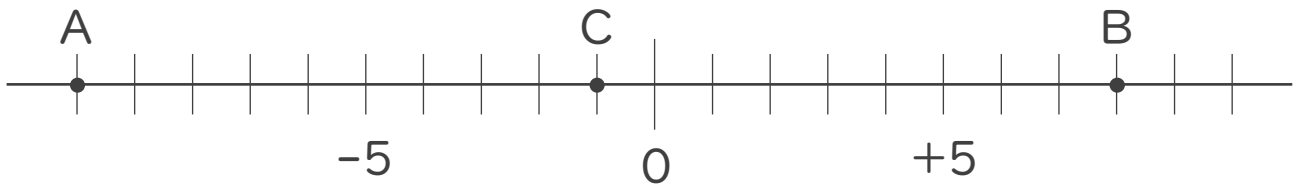
② - 9

③ - 6





1. 次の数直線で、点A,B,Cに対応する数を答えなさい。



A: -10

B: $+8$

C: -1

2. 次の数を数直線上に表しなさい。

① $+4$ ② -9 ③ -6

