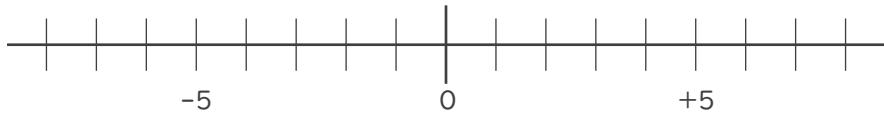


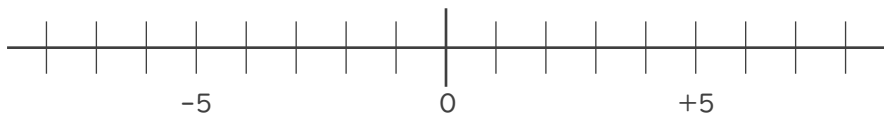


- 数直線を使って次の数を求めなさい。

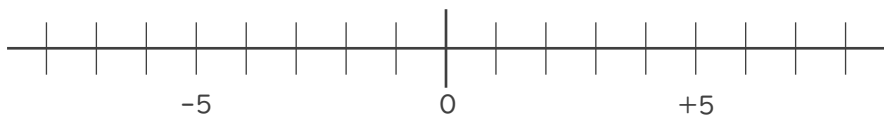
① -3 より -1 大きい数



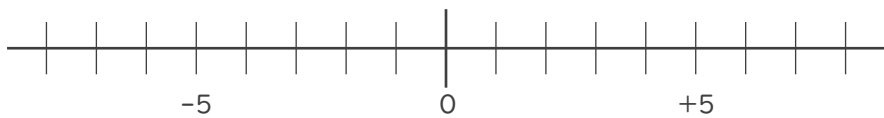
② -7 より 8 大きい数



③ 2 より -4 小さい数



④ 6 より 9 小さい数

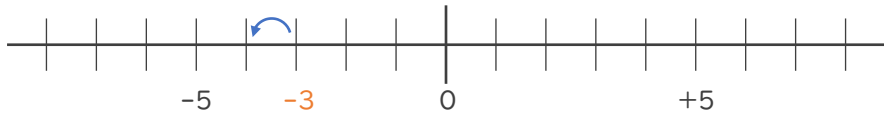






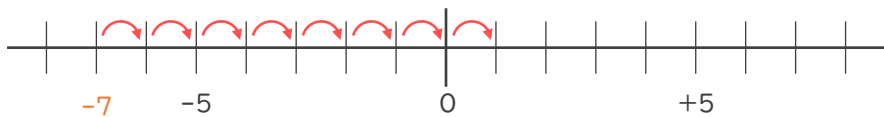
- ・ 数直線を使って次の数を求めなさい。

① -3 より -1 大きい数 -1 大きい数 $\rightarrow 1$ 小さい数



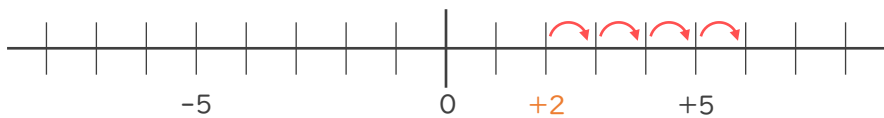
-4

② -7 より 8 大きい数



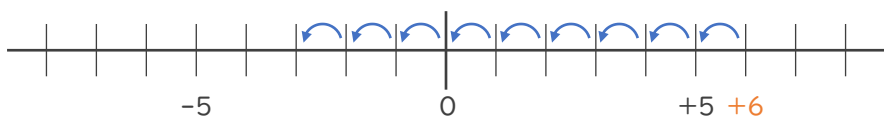
$+1$

③ 2 より -4 小さい数 -4 小さい数 $\rightarrow 4$ 大きい数



$+6$

④ 6 より 9 小さい数



-3

