



1. 次の温度を－^{マイナス}を使って表しなさい。

① 0℃より5.5℃低い温度

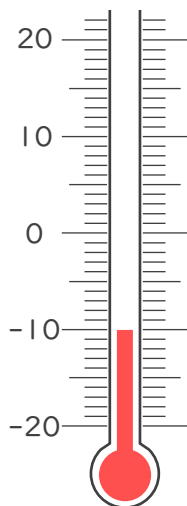
② 0℃より3℃低い温度

③ 0℃より2.1℃低い温度

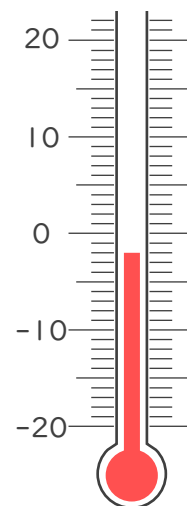
④ 0℃より11℃低い温度

2. 次の温度計が示す温度を書きなさい。

①



②







1. 次の温度を－^{マイナス}を使って表しなさい。

① 0℃より5.5℃低い温度

－5.5℃

② 0℃より3℃低い温度

－3℃

③ 0℃より2.1℃低い温度

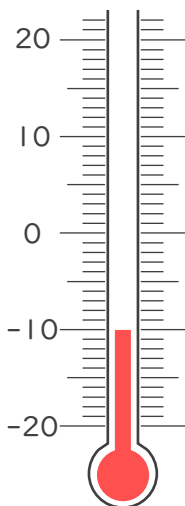
－2.1℃

④ 0℃より11℃低い温度

－11℃

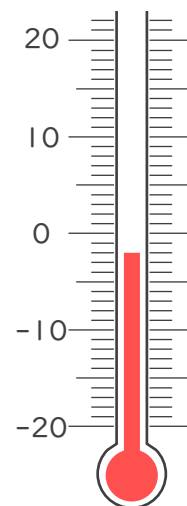
2. 次の温度計が示す温度を書きなさい。

①



－10℃

②



－2℃

