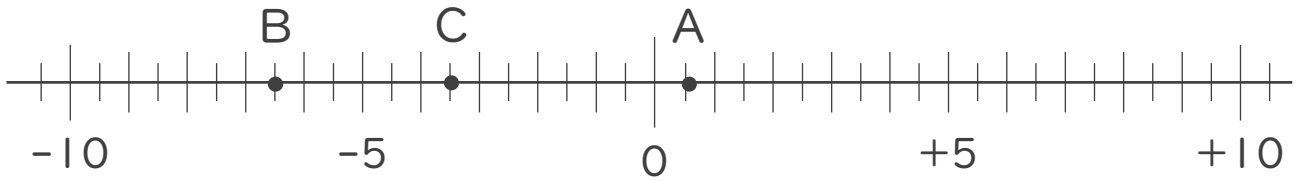




1. 次の数直線で、点A,B,Cに対応する数を答えなさい。



A :

B :

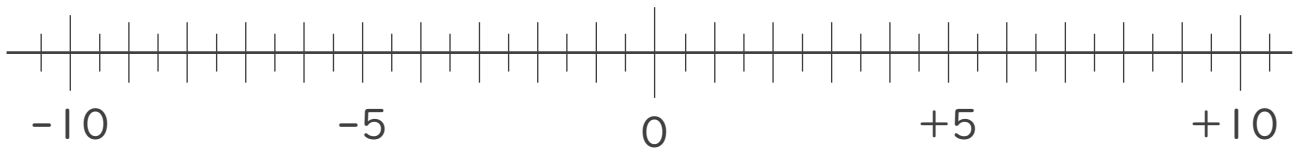
C :

2. 次の数を数直線上に表しなさい。

① $-\frac{9}{2}$

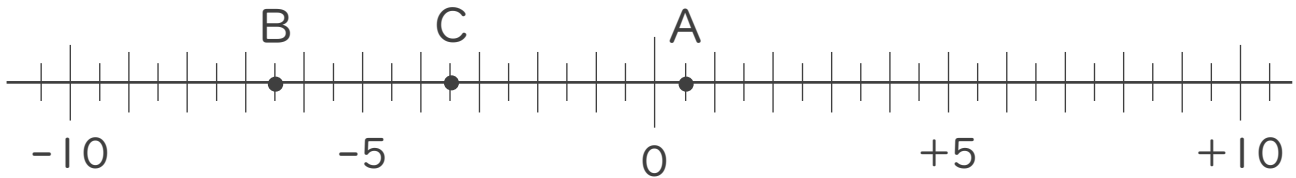
② $+\frac{3}{2}$

③ $-\frac{5}{2}$





1. 次の数直線で、点A,B,Cに対応する数を答えなさい。



A: +0.5

B: -6.5

C: -3.5

2. 次の数を数直線上に表しなさい。

① $-\frac{9}{2}$ ② $+\frac{3}{2}$ ③ $-\frac{5}{2}$

