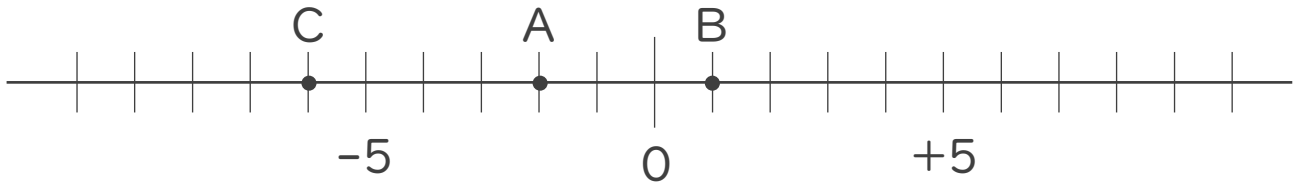




1. 次の数直線で、点A,B,Cに対応する数を答えなさい。



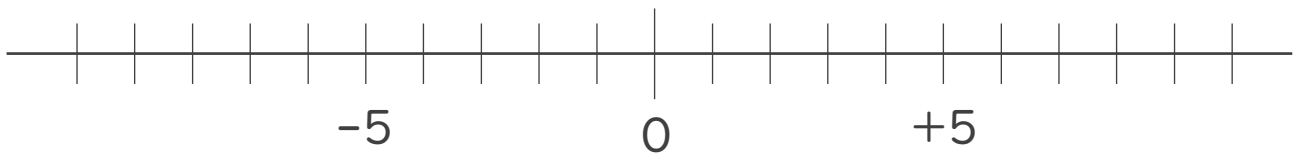
A :

B :

C :

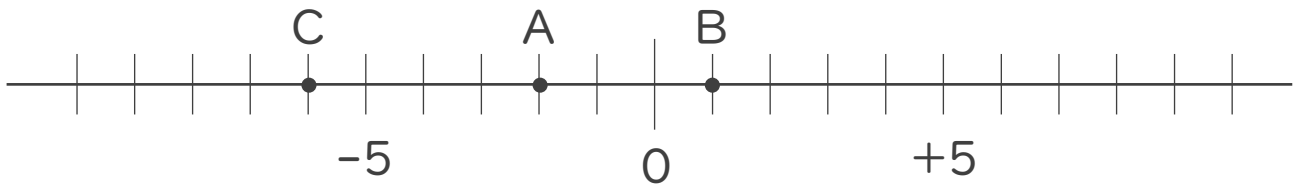
2. 次の数を数直線上に表しなさい。

① + 6 ② - 1 ③ + 3





1. 次の数直線で、点A,B,Cに対応する数を答えなさい。



A: -2

B: $+1$

C: -6

2. 次の数を数直線上に表しなさい。

① $+6$ ② -1 ③ $+3$

