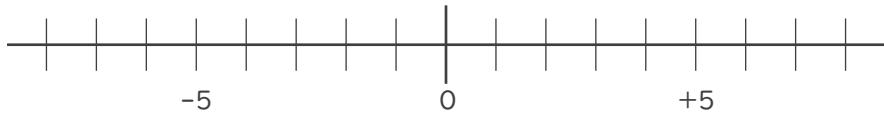




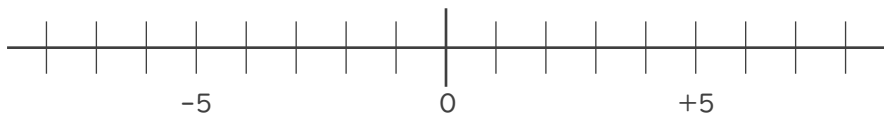
- 数直線を使って次の数を求めなさい。

①  $-5$  より  $-2$  小さい数



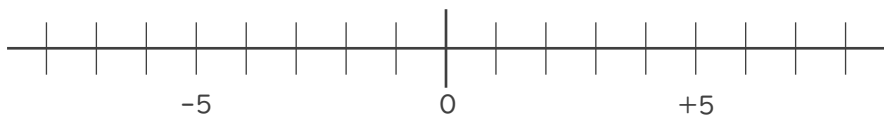
\_\_\_\_\_

②  $3$  より  $4$  小さい数



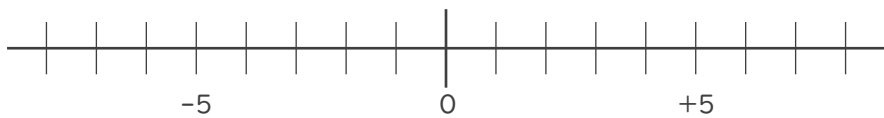
\_\_\_\_\_

③  $7$  より  $-5$  大きい数



\_\_\_\_\_

④  $-4$  より  $7$  大きい数



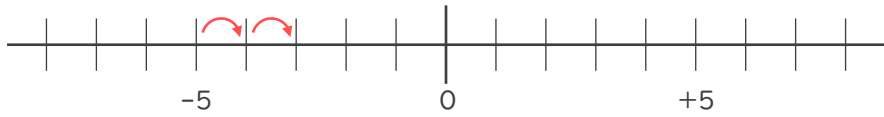
\_\_\_\_\_





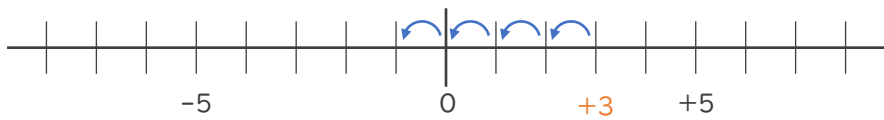
- 数直線を使って次の数を求めなさい。

①  $-5$  より  $-2$  小さい数  $-2$  小さい数  $\rightarrow$   $2$  大きい数



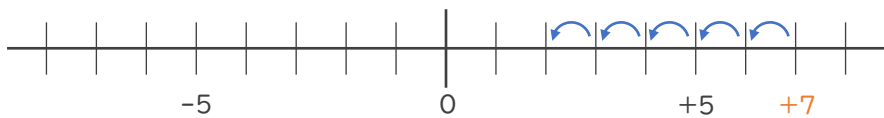
$-3$

②  $3$  より  $4$  小さい数



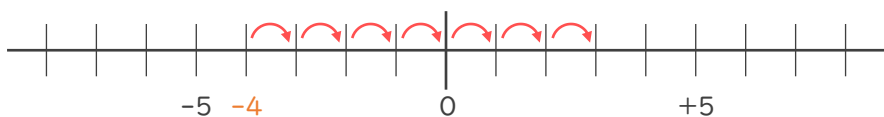
$-1$

③  $7$  より  $-5$  大きい数  $-5$  大きい数  $\rightarrow$   $5$  小さい数



$+2$

④  $-4$  より  $7$  大きい数



$+3$

