



1. 次の温度を－<sup>マイナス</sup>を使って表しなさい。

① 0℃より9℃低い温度

\_\_\_\_\_

② 0℃より0.1℃低い温度

\_\_\_\_\_

③ 0℃より3.7℃低い温度

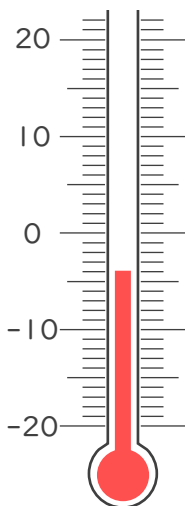
\_\_\_\_\_

④ 0℃より6℃低い温度

\_\_\_\_\_

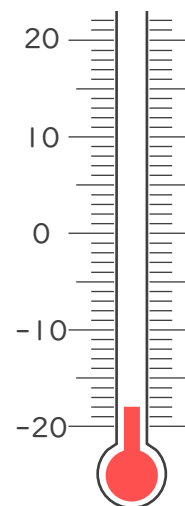
2. 次の温度計が示す温度を書きなさい。

①



\_\_\_\_\_

②



\_\_\_\_\_





1. 次の温度を－<sup>マイナス</sup>を使って表しなさい。

① 0℃より9℃低い温度

－9℃

② 0℃より0.1℃低い温度

－0.1℃

③ 0℃より3.7℃低い温度

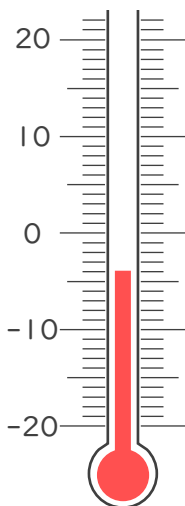
－3.7℃

④ 0℃より6℃低い温度

－6℃

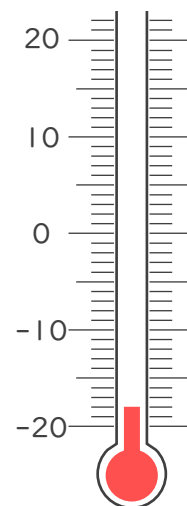
2. 次の温度計が示す温度を書きなさい。

①



－4℃

②



－18℃

